

LKPD

LEMBAR KERJA PESERTA DIDIK

EKSPLORASI GEOMETRI BANGUN DATAR MELALUI
MAKANAN KHAS DAERAH NASI PINCUK

AYO MENGENAL MAKANAN KHAS NUSANTARA



Kurikulum Merdeka
Sekolah Dasar Kelas 3

Disusun Oleh:
Kelompok 10 UNESA B

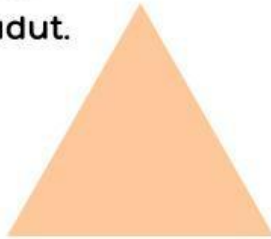
Materi Bangun Datar

- Pengertian Bangun Datar

Definisi bangun datar sebagai bentuk dua dimensi yang memiliki panjang dan lebar, tanpa tinggi.

- Macam-Macam Bangun Datar

Segitiga: Memiliki 3 sisi dan 3 sudut.




Persegi: Memiliki 4 sisi yang sama panjang dan 4 sudut siku-siku.



Persegi Panjang: Memiliki 4 sisi, dengan dua pasang sisi yang sama panjang.



Lingkaran: Memiliki satu sisi melengkung tanpa sudut.



LKPD MATEMATIKA

TUJUAN PEMBELAJARAN:

- Melalui kegiatan mengamati bentuk makanan khas, Peserta didik dapat menjelaskan ciri-ciri bentuk bangun datar (segi empat, segitiga, segi banyak) dengan benar.

MATERI

MATERI NASI PECEL PINCUK

telur kukus separo
berbentuk
 $\frac{1}{2}$ lingkaran

ote ote
berbentuk
lingkaran
sempurna

tempe goreng
berbentuk
jajar genjang



ujung
lipatan
pincuk
berbentuk
segitiga

kerupuk
berbentuk
persegi

nasi paling
ujung bawah
berbentuk segitiga

Nasi pecel merupakan makanan khas daerah dari Madiun. Nasi pecel ini sangat digemari oleh sebagian banyak orang Jawa. Nasi pecel sendiri memiliki banyak bentuk geometri. seperti, kerupuk yang berbentuk persegi, rempeyek yang berbentuk persegi panjang, topping telur yang berbentuk setengah lingkaran, ote-ote yang berbentuk lingkaran, tempe goreng yang berbentuk jajar genjang, yuk amati bersama nasi pecel yang rasanya enak ini!

LKPD MATEMATIKA

KELOMPOK:

NAMA ANGGOTA:

•
•
•

•
•
•


TUJUAN PEMBELAJARAN:

- Melalui kegiatan mengamati bentuk makanan khas, Peserta didik dapat menjelaskan ciri-ciri bentuk bangun datar (segi empat, segitiga, segi banyak) dengan benar.

PETUNJUK Pengerjaan:

- Perhatikan makanan khas berikut ini!
- Carilah jenis dan ciri-ciri bangun datar yang ada pada gambar rumah adat tersebut!
- Gambar dan tuliskan jawabannya pada tabel di bawah ini!



Bentuk Bangun Datar	Nama	Jumlah Sisi	Ciri-ciri
	segitiga sama sisi	3	<ul style="list-style-type: none">• ketiga sisinya sama panjang• memiliki sudut yang sama besar

LKPD MATEMATIKA

Bentuk Bangun Datar	Nama	Jumlah Sisi	Ciri-ciri

LKPD MATEMATIKA

PETUNJUK Pengerjaan:

- Perhatikan Makanan Khas berikut ini!
- Carilah jenis dan ciri-ciri bangun datar yang ada pada gambar rumah adat tersebut!
- Tuliskanlah pada tabel di bawah ini!



Rawon



Nasi Tumpeng



Bakso

Bentuk Bangun Datar	Nama	Jumlah Sisi	Ciri-ciri

LKPD MATEMATIKA

Bentuk Bangun Datar	Nama	Jumlah Sisi	Ciri-ciri

LKPD MATEMATIKA

Petunjuk:

Hubungkan gambar makanan khas dengan bangun datarnya!

