

Institución:
Curso:
Fecha:

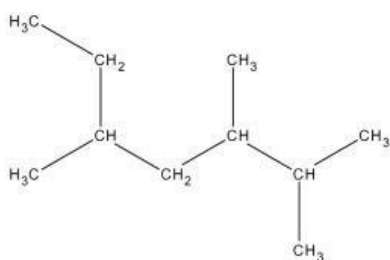
Nombre completo:
DNI:

Nomenclatura de Alcanos

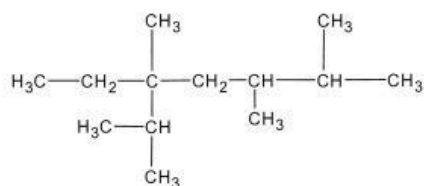
Actividad:

1) Da nombre a los siguientes alcanos utilizando la nomenclatura IUPAC.

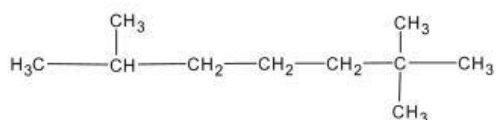
a)



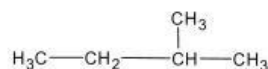
b)



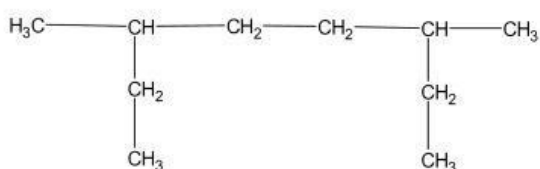
c)



d)



e)



2) Escribe las estructuras de los siguientes alcanos en ChemsSketch y luego compartirla al Padlet.

a) 2-metilpropano

b) 2,2,3-trimetilbutano

c) 3-etil-2,5-dimetilhexano

d) 3,4-dietilheptano

e) 2,3-dimetil-5-etilnonano