

LEMBAR KERJA PESERTA DIDIK

Fisika Kelas X

Disusun oleh :
Zairotul Jannah

**lengkapi identitas
diri kalian**

NAMA :

KELAS :

NO. ABSEN :







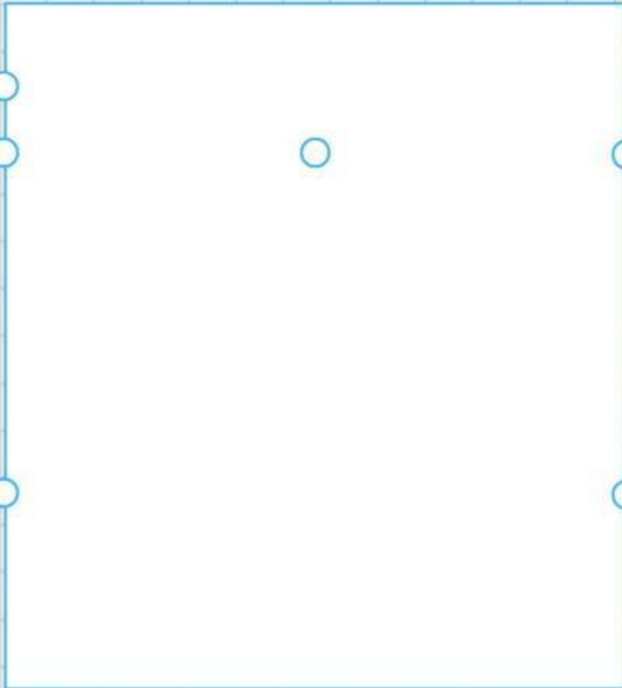
**TONTON VIDIO DI
BAWAH INI !**



**BACALAH ULASAN
MATERI NYA DI
BAWAH**




**TEMUKAN JAWABAN DARI PERMASALAHAN
VIDIO DI BAWAH**



**MENGAPA BENDA BERGERAK DENGAN
KECEPATAN BERBEDA SAAT MELINTASI
KETIGA PERMUKAAN TERSEBUT ?**

**APA YANG TERJADI JIKA BENDA DI
DORONG MELALUI BIDANG Miring
TERSEBUT? DAN BERIKAN ALASANNYA!**



**KLIK LINK DI BAWAH UNTUK
MENJAWAB SOAL**



**UTARAKAN PERASAAN ANDA SETELAH
MELAKUKAN PEMBELAJARAN DI SINI**

