

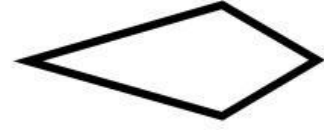




فعالية مع الاشكال الرباعية

امامك مجموعة من الاشكال الرباعية ، لانم الأسماء المُسجلة ادنا لكل شكل من الاشكال التالية :



متوازي اضلاع

مُعَيّن

مُسْتَطِيل

مُرَبّع

دالتون

شبه مُنحرف