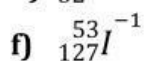
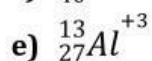
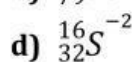
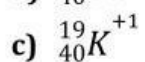
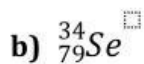
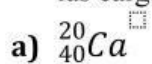


**SOBRE ELECTRONES DE VALENCIAS VALENCIA Y ESTADOS DE OXIDACIÓN**

4. Completar los siguientes datos

ELEMENTO	ELECTRONES DE VALENCIA	VALENCIA	ESTADOS DE OXIDACIÓN
K			
N			
B			
Se			

5. Representa las siguientes especies químicas recuerda colocar los corchetes y las cargas a los iones



6. Realizar la formación de iones con los siguientes elementos

a) Na

b) Br

c) Mg

d) S

e) P

f) Al