


PERÍMETRO DE FIGURAS GEOMÉTRICAS

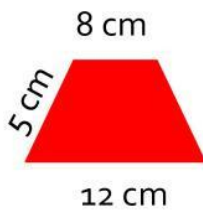
Calculá el perímetro de cada figura teniendo en cuenta las medidas dadas. En la respuesta, escribí también la unidad de medida. Ej: 12 m



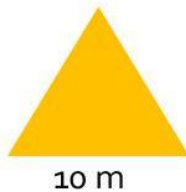
PERÍMETRO:



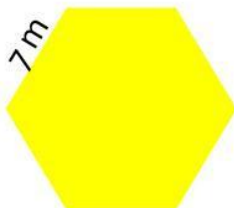
PERÍMETRO:



PERÍMETRO:



PERÍMETRO:



PERÍMETRO: