


Guía de trabajo

Nombre:.....

1. Escucha y resuelve el siguiente problema matemático.

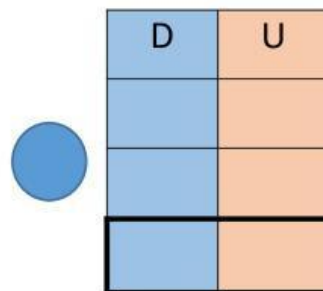
DANI JUNTO 38 LÁMINAS DE 
DRAGON BALL,
EN TOTAL SON 49 LÁMINAS.
¿CUÁNTAS LÁMINAS LE FALTAN A DANI
POR JUNTAR?

DATOS:

SON _____

TIENE _____

OPERACIÓN:





RESPUESTA: LE FALTAN LÁMINAS DE.....

2. Escucha y resuelve el siguiente problema matemático.

SUSANA COLECCIONÓ 27 POKÉMON,
AYER PERDIÓ 7 POKÉMON.



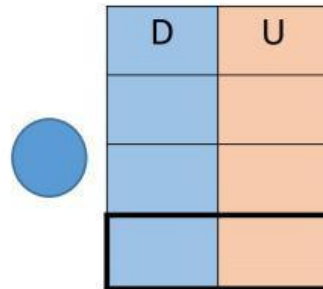
¿CUÁNTOS POKEMON LE QUEDARÓN A
SUSANA?

DATOS:

COLECCIONÓ _____

PERDIÓ _____

OPERACIÓN:



RESPUESTA: LE QUEDARON.....