




Estabelece a correspondência correta entre os modelos da coluna I, e a representação simbólica adequada na coluna II e a designação correspondente na coluna III.

Coluna I	Coluna II	Coluna III
<p>A</p> 	<p>1- 20 H</p>	<p>X- quatro átomos de oxigénio</p>
<p>B</p> 	<p>2- 6 N</p>	<p>Y- vinte átomos de hidrogénio</p>
<p>C</p> 	<p>3- 4 O</p>	<p>Z- seis átomos de nitrogénio</p>