

LATIHAN PAT KELAS 2 MATEMATIKA

1.



Lambang bilangan di samping di baca ...

Tiga

Empat

Lima

2. Di antara gambar berikut yang berjumlah **DELAPAN** adalah ...



3. Perhatikan gambar berikut!



Buah yang paling banyak adalah buah ...

Anggur

Pisang

Mangga

4. Hasil dari $8 + 9$ adalah ...

17

16

18

5. Beni memetik 15 buah tomat. Di berikan Udin 5 buah. Banyaknya tomat Beni sekarang adalah ...

8

9

10

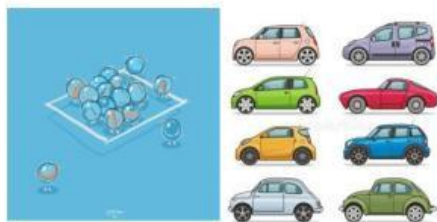
6. Boni mempunyai 13 kelereng dan Kevin mempunyai 16 kelereng. Kelereng Boni ... dari pada kelereng kevin.

Lebih sedikit

Lebih banyak

Sama banyak

7. Perhatikan gambar berikut!



Pernyataan yang benar berdasarkan gambar adalah ...

Kelereng lebih sedikit dari pada mobil

Kelereng lebih banyak dari pada mobil

Kelereng sama banyak dengan mobil

8. 8, 9, 10, 11 ... ,13

Bilangan yang tepat untuk mengisi titik-titik di atas adalah ...

12

13

14

9. Urutan bilangan dari yang terkecil adalah ...

6, 7, 8, 9, 10

6, 8, 7, 9, 10

6, 9, 8, 7, 10

10.

28

Angka 2 pada bilangan di samping menempati nilai tempat ...

Satuan

Puluhan

Ratusan

11. Buah yang memiliki bentuk seperti bola adalah ...

Pisang

Semangka

Jambu air

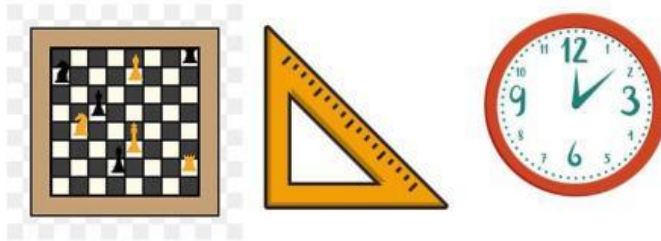
12. Setiap hari Beni membawa botol air saat pergi ke sekolah. Botol air mempunyai bentuk seperti ...

Kubus

Tabung

Balok

13.



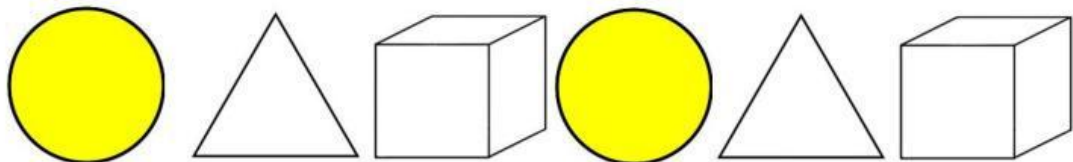
Dari benda-benda di atas, yang berbentuk segitiga adalah ...

Penggaris

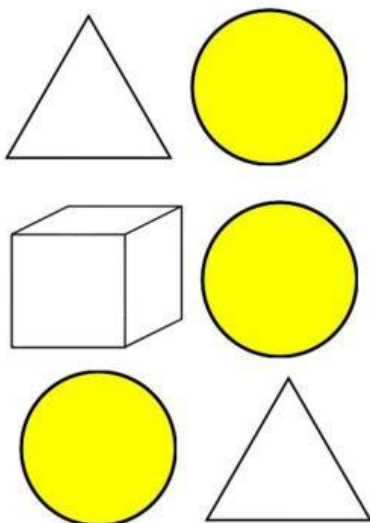
Papan catur

Jam dinding

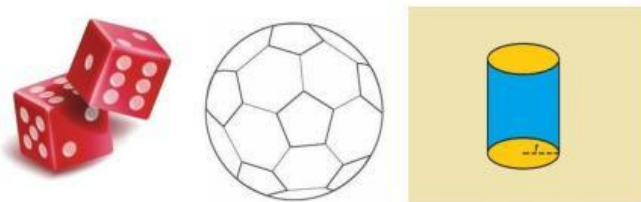
14. Perhatikan gambar pola berikut!




Lanjutan dari pada di atas adalah ...



15. Gambar di bawah ini yang berbentuk tabung adalah ...



16. Lambang bilangan dari tiga belas adalah ...



Banyak kelinci di atas adalah ...

18. Hasil dari $9 + 8$ adalah ...

19. Rika membeli 9 buah apel, namun 3 apel busuk. Jumlah apel Rika yang masih baik berjumlah ...



6 Botol

...

dari pada 4 Mangkok

21. 9, 8, 12, 11, 10 Urutan bilangan di samping dari yang terbesar adalah ...

22. Yang menempati nilai tempat satuan dari bilangan 34 adalah angka ...

23. Bangun ruang yang memiliki bentuk seperti bola adalah ...



24.

Urutan nama bangun datar berdasarkan gambar di atas adalah ...

25. Pasangkan gambar sesuai dengan bentuknya!




Persegi



Lingkaran

26. Perhatikan gambar berikut!



Buah apakah yang memiliki jumlah paling banyak ?

27. Di dalam kandang ada 10 sapi. Paman beli lagi 8 sapi. Berapa jumlah sapi paman sekarang ?

28. Tania mempunyai 12 buah mangga. Di berikan kepada temannya 5 buah. Berapa buah mangga Tania sekarang ?

Untuk mengerjakan soal nomor 29 dan 30.

Perhatikan kolom di bawah ini !

No.	Nama Bangun Ruang	Gambar Bangun Ruang	No.	Nama Bangun Ruang	Gambar Bangun Ruang
1	BOLA		1	BALOK	
2	KUBUS		2	TABUNG	

29. Bangun ruang dan nama benda yang sesuai ditunjukkan pada nomor berapa ?

30. Bangun ruang dan nama benda yang tidak sesuai di tunjukan pada nomor berapa ?