




SOAL EVALUASI

1. **Metamorfosis sempurna adalah**
 - a. Hewan yang tidak mengalami perubahan bentuk pada setiap pertumbuhan dan perkembangannya
 - b. Hewan yang berkembang biak dengan melahirkan
 - c. Hewan yang mengalami perubahan bentuk pada setiap pertumbuhan dan perkembangannya
2. **Siklus metamorfosis kupu-kupu yang benar adalah**
 - a. Telur – kupu-kupu dewasa – kepompong/vuva – larva/ulat
 - b. kepompong/vuva - kupu-kupu dewasa – telur - larva/ulat
 - c. Telur - larva/ulat - kepompong/vuva – kupu-kupu dewasa
3. **Kecoa muda disebut juga dengan nama**
 - a. Larva
 - b. Nimfa
 - c. Vuva
4. **Contoh makhluk hidup yang mengalami metamorfosis sempurna adalah ...**
 - a. Belalang
 - b. Kupu-kupu
 - c. Capung
5. **Yang dilakukan oleh larva setelah keluar dari telur adalah**
 - a. Berubah menjadi dewasa
 - b. Membentuk kepompong
 - c. Berubah menjadi nimfa
6. **Berikut ini kelompok hewan yang mengalami kesamaan daur hidup dengan kecoa adalah**
 - a. Belalang, jangkrik, dan capung
 - b. Semut, katak, dan lalat
 - c. Capung, nyamuk, dan katak

7. Petani bayam mengalami kerugian karena tanamannya rusak. Kerusakan tanaman berupa daun yang berlubang-lubang. Setelah ditelusuri, penyebab kerusakan tanaman karena salah satu tahap daur hidup kupu-kupu. Tahapan yang dimaksud adalah ...

- a. Telur
- b. Larva / ulat
- c. Vuva / kepompong

8. Telur menetas pada metamorfosis tidak sempurna akan berubah menjadi ..

- a. 
- b. 
- c. 

9. Jumlah fase pertumbuhan yang dialami kupu-kupu pada metamorfosis sempurna adalah ...

- a. 2 fase
- b. 3 fase
- c. 4 fase

10. Hewan yang daur hidupnya mengalami metamorfosis tidak sempurna adalah capung karena dalam daur hidupnya tidak ada fase ...

- a. Ulat dan kepompong
- b. Telur dan ulat
- c. Nimfa dan capung