



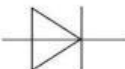
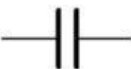


Prověření znalostí

Úloha č.1: Přiřaď správné barevné označení k názvům vodičů

| | |
|------------------|---|
| Fázový vodič |  |
| Střední vodič |  |
| Uzemňovací vodič |  |

Úloha č.2: Přiřaď názvy součástek ke správným schématickým značkám

| | | | |
|---|---|--|---|
|  |  |  |  |
| | | | |

Dioda

Kondenzátor

Cívka

Rezistor

Úloha č.3: Převod jednotek

$$1,428 \text{ k}\Omega = \quad \Omega$$

$$0,752 \text{ V} = \quad \text{mV}$$

$$628 \Omega = \quad \text{k}\Omega$$

$$1268 \text{ mA} = \quad \text{A}$$

$$680 \text{ nF} = \quad \mu\text{F}$$

$$12\,265 \text{ kW} = \quad \text{MW}$$