






Nombre: ..... Fecha: ..... Curso: .....

- 1 Fíjate en esta tabla y complétala con los datos que faltan.

número	UM	C	D	U	se lee
1.568					
	7	3	0	5	
					cuatro mil cuatrocientos cuarenta
9.874					

- 2 Escribe el número anterior y posterior de cada uno de estos números.

	2.000.000	
	9.654.389	
	6.789.999	

- 3 Observa los datos de la granja de este apicultor y responde a las preguntas.



Panal 1: 4.567.578 abejas



Panal 2: 3.997.298 abejas



Panal 3: 2.654.418 abejas

- a) ¿Qué valor ocupa el 4 en el primer panal de abejas? .....
- b) ¿Qué lugar ocupa el 7 en el segundo panal de abejas? .....
- c) ¿Qué valor ocupa el 8 en los tres panales de abejas? .....

- 4 Escribe los siguientes números y ordénalos de menor a mayor.

2CM + 8DM + 3UM + 6C + 0D + 5U

8DM + 5UM + 7C + 3D + 1U

2DM + 9UM + 7C + 9D + 5U

2CM + 1DM + 1UM + 2C + 2D + 1U

..... < ..... < .....