




Estabelece a correspondência correta entre os exemplos de unidades estruturais da matéria, na coluna I, e a respectiva descrição, na coluna II.

Coluna I		
(A) Cloreto de sódio (sal de cozinha)		•
(B) Gás néon		•
(C) Gás butano		•

Coluna II
• (1) Corpúsculos sem carga elétrica que se representam por um símbolo químico.
• (2) Corpúsculos constituídos por grupos de átomos ligados entre si.
• (3) Corpúsculos que resultam de átomos ou grupos de átomos que perderam ou ganharam elétrons.