

ESCUELA ROGELIO FERNÁNDEZ GÜELL



Estrategia Evaluativa de Estudios Sociales

Prof. MSc. Gloriana Castro Gutiérrez

II Semestre, segundo grado

Tiempo estimado: 80 minutos

Sección 2-3

Valor: 24 puntos / Porcentaje 10%

Fecha: martes 01 de octubre, 2024

Nombre: _____

Hora de inicio: _____ Hora de finalización: _____

Firma del encargado legal: _____

Puntos obtenidos: _____

Porcentaje obtenido: _____

Calificación: _____

INSTRUCCIONES GENERALES

- Escuche con atención las indicaciones que se le dan.
- Resuelva la estrategia de manera individual.
- Solicite ayuda en caso de tener dudas.
- Revise la estrategia antes de entregarla.
- Revise que la estrategia contenga **7 actividades**.


Actividad #1

Valor 5 puntos.

Seleccione el nombre de cada **manifestación artística** (artesanía, pintura, escultura, baile folclórico, **maskarada**) representada en las siguientes imágenes. (Valor 5 puntos)



a.



d.



b.



e.


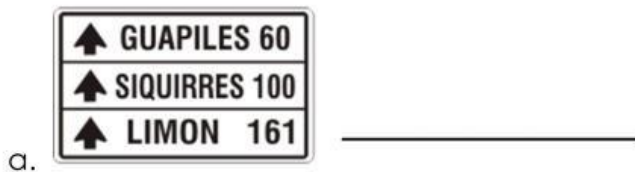


c.

Actividad #2

Valor 5 puntos.


Seleccione el nombre (**reglamentación, información, prevención**) del tipo de señal de tránsito al que corresponde cada imagen. (**Valor 5 puntos**)



Actividad #3

Valor 2 puntos.

Seleccione la respuesta de las siguientes preguntas acerca del **semáforo peatonal (detenerse, caminar)**. (**Valor 2 puntos**)



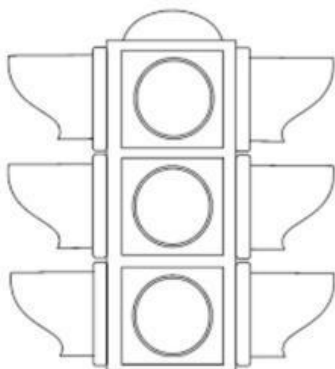
1. ¿Qué acción se debe realizar si el semáforo peatonal está en **rojo**? _____

2. ¿Qué acción se debe realizar si el semáforo peatonal está en **verde**? _____

Actividad #4

Valor 3 puntos.

Seleccione el **significado** de los colores del **semáforo vehicular** (precaución, detenerse, continuar). (Valor 3 puntos)



1. Rojo: _____



2. Amarillo: _____

3. Verde: _____

Actividad #5

Valor 2 puntos



Indicaciones específicas. Observe las siguientes imágenes. Seleccione dentro del recuadro que represente una correcta medida de **seguridad vial** cuando se transita en espacios rurales o urbanos.

<p>a.</p> 	<p>b.</p> 

Actividad #6

Valor 2 puntos

Indicaciones específicas. Observe las siguientes imágenes. Seleccione dentro del recuadro que represente una correcta medida de **seguridad personal** cuando se transita en espacios rurales o urbanos.

<p>a.</p> 	<p>b.</p> 

Actividad #7

Valor 5 puntos.

En la columna A se presentan los nombres de diversas formas de relieve. En la columna B el dibujo de cada relieve. Haga coincidir, trazando una línea, el nombre con el dibujo que corresponde. Cada respuesta se utiliza una vez. Vale 5 ptos. (Cada acierto vale 1 punto).

Columna A

1. Volcán.

•

2. Montaña.

•

3. Llanura.

•

4. Valle.

•

5. Río.

•

Columna B

1. Río



2. Volcán




3. Montaña



4. Valle



5. Llanura



Escala para calificar la estrategia de Estudios Sociales

Indicadores	No responde o no lo logra	1	2	3	4	5	6	7	8	9	10
1. Reconoce medidas de seguridad personal en su tránsito por las vías públicas.											
2. Reconoce las actitudes y prácticas responsables para el fortalecimiento de la seguridad personal y vial de los habitantes del cantón.											
3. Reconoce la importancia de las historias comunales y su relación con la identidad cantonal.											
4. Identifica los diversos espacios geográficos que caracterizan el cantón.											
Calificación: 100 Total de puntos: 24 Porcentaje: 10%	Puntos: _____ Porcentaje: _____ Calificación: _____										