



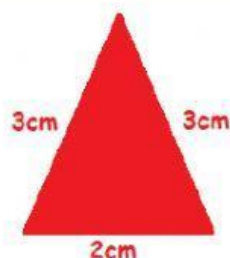
CALCULA EL PERÍMETRO




$P = \quad \text{cm}$



$P = \quad \text{cm}$

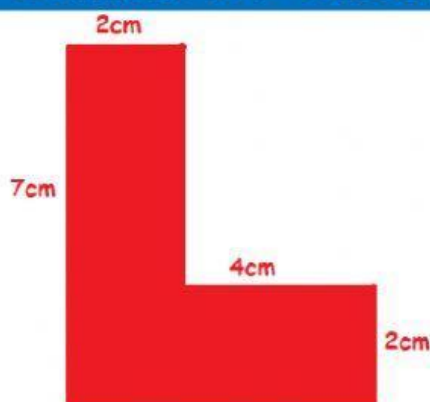


$P = \quad \text{cm}$

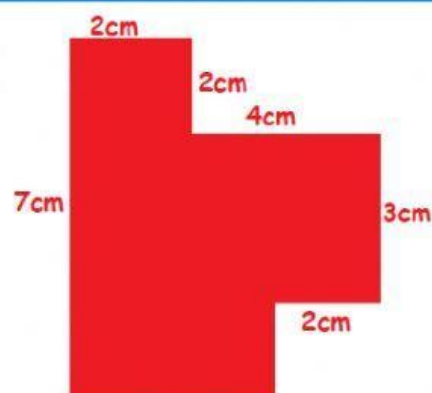


$P = \quad \text{cm}$

COMPLETA Y CALCULA



$P = \quad \text{cm}$



$P = \quad \text{cm}$

PROBLEMAS

Una parcela tiene forma de triángulo, y sus lados miden 9 m, 11 m y 12 m. Calcula cuantos metros de valla hacen falta para cercarla.

Solución: Hacen falta metros.

Un ganadero tiene un prado cuadrado de 8 m de lado y quiere ponerle una valla de alambre alrededor. ¿Cuánto le costará si el alambre vale 2 euros el metro?

Solución: Costará euros.