

Prueba Diagnóstica Matemáticas Básicas



MULTIPLICACIÓN POR DEGENAS Y CENTENAS

1) ¿Recuerdas el procedimiento para realizar multiplicaciones?

a)		3	4
	x	2	6
<hr/>			
<hr/>			

b)		5	9
	x	1	4
<hr/>			
<hr/>			

c)		4	6	9	5
		x		8	7
<hr/>					
<hr/>					

ESCRITURA DE LOS NÚMEROS

Escribe los números con puntos para separar las unidades de mil.
Ejem: 7.453.975

2) ¿Sabes escribir un número a partir de las letras?

a) Dieciséis mil quinientos veintitrés



b) Seiscientos noventa mil quinientos veintiuno



c) Ocho millones dieciocho mil ciento ochenta



3) ¿Escribe con letras los siguientes números?

a) 489.235



b) 702.306



a) 3.200.054




DIVISIONES



4) Realiza las siguientes divisiones en tu cuaderno y completa la información de la tabla



DIVISIÓN	15.309 ÷ 2	9.756 ÷ 5	23.158 ÷ 6
Dividendo			
Divisor			
Cociente			
Residuo			

FRACCIONES

5) Escribe mediante una fracción, la interpretación de la parte coloreada en cada figura

a)  →  → Escriba esta fracción en letras

b)  →  → Escriba esta fracción en letras

c)  →  → Escriba esta fracción en letras

REPRESENTACIÓN NUMÉRICA

6) Escribe de que otra forma se representarían 5 grados de temperatura bajo cero

→

7) Si una empresa perdió 1.250.000 de pesos en un mes, ¿de qué otra manera se puede representar o simbolizar esta pérdida? (No olvides colocar los puntos de separación de mil en tu respuesta)

→