



ADICIONES Y SUSTRACCIONES DE NÚMEROS ENTEROS

1.- Marca el resultado correcto en cada caso:

1 pto. c/u

a) $25 + 18$ ☐ ☐ b) $8 - -16$

c) $-7 - -1$ ☐ ☐ d) $-8 + -10$

e) $-6 + 7$ ☐ ☐ d) $-21 + 14$

e) $10 - 17$ ☐ ☐ f) $12 + 20$

g) $13 - 23$ ☐ ☐ h) $-18 + -3$

i) $-4 - 23$ ☐ ☐ j) $19 - 3$

k) $24 + 19$ ☐ ☐ l) $3 + -13$

m) $7 - 18$ ☐ ☐ n) $7 + -25$

ñ) $-24 + -18$ ☐ ☐ o) $-15 + -14$



p) $4 - -16$ ☐ ☐ q) $-22 - -24$

r) $-23 - -5$ ☐ ☐ s) $-21 - 21$

2.- Resuelve los siguientes ejercicios combinados:





2 pts.



3 pts.




2 pts.



3 pts.



4 pts.



**Revisa bien
antes de
finalizar tu
trabajo**