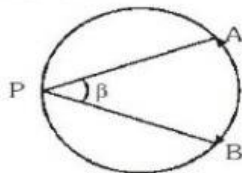


Ángulo inscrito en la circunferencia

2) Ángulo Inscrito

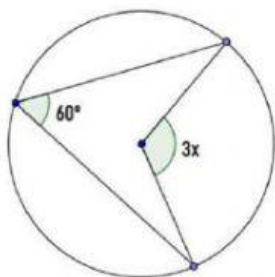
Todo ángulo inscrito en una circunferencia tiene como medida la mitad del ángulo del centro que subtende el mismo arco.



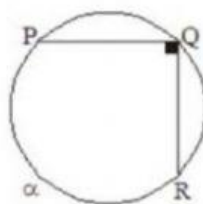
$$\beta = \frac{m\widehat{AB}}{2}$$

Ejercicio :

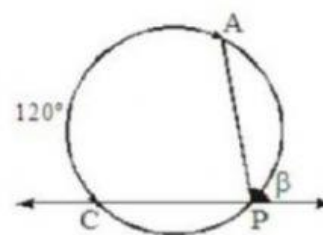
a) Hallar el valor de X



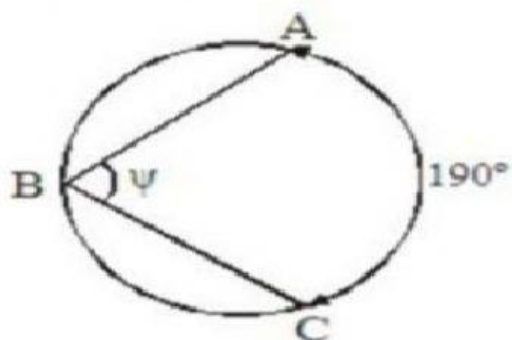
De la figura, calcular α .



En la figura, calcular β .



Del gráfico, calcular ψ .



Del gráfico, calcular θ .

