



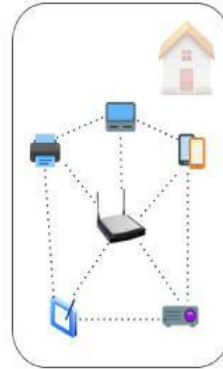
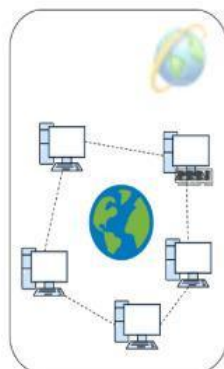
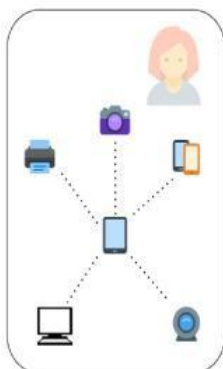
ESC. SEC. PART. No. 0193 "COLEGIO PANAMERICANO"

TERCER GRADO

TECNOLOGÍA – INFORMÁTICA

GUIA DE ESTUDIO PRIMER PAARCIAL DEL PRIMER PERIODO

- I. Observa con atención las siguientes imágenes de redes informáticas, después selecciona la respuesta correcta para seleccionar su nombre y alcance de cada una, según corresponda:



- II. Lee con atención cada uno de los siguientes enunciados de la columna izquierda, observa las imágenes de la columna de la derecha y finalmente une correctamente:

1. Una herramienta es un objeto simple que se crea o modifica para facilitar una tarea
2. Un gesto técnico son los movimientos o acciones corporales que ejecuta el ser humano para el manejo y control de las herramientas, máquinas e instrumentos
3. Una máquina es conjunto de instrumentos combinados en los que se aplica una forma de energía para transformarla en otra para producir un efectivo determinado
4. Un instrumento es un objeto simple que se crea o modifica para facilitar una tarea, que requiere la aplicación correcta de una energía
5. Una herramienta informática es cualquier procedimiento que mejora la capacidad de realizar ciertas tareas.



- III. Observa con atención la siguiente imagen de una red informática y después escribe en cada recuadro la parte de la que señala:

