

ESCOLA MUNICIPAL \_\_\_\_\_

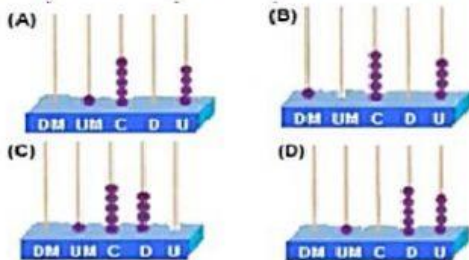
JOÃO PESSOA, 11/03/2021.

ALUNO (A): \_\_\_\_\_

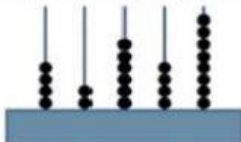
5º ANO: \_\_\_\_\_ TURMA: \_\_\_\_\_ TURNO: \_\_\_\_\_

QUINTA-FEIRA 11/03

1º) Daniel representou o número 1.540 no ábaco. Marque o ábaco que corresponde a esse número.

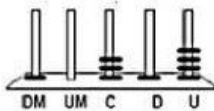


2º) O número representado no ábaco da figura é:



(A) 46.482 (B) 42.648 (C) 84.624 (D) 86.424

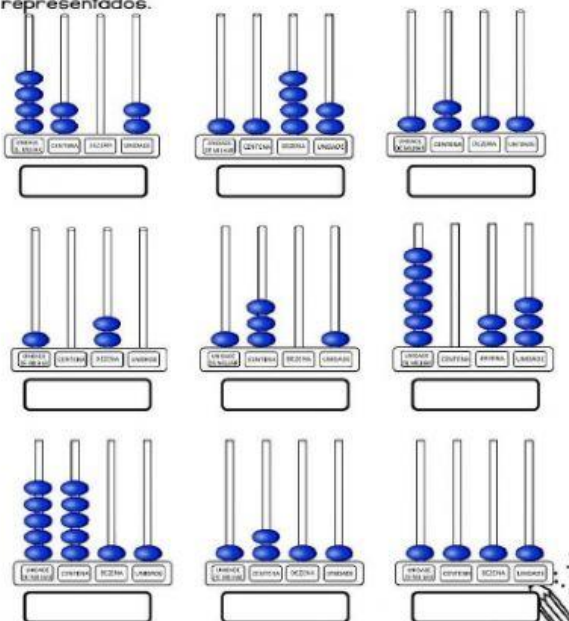
3º) No ábaco abaixo, Cristina representou um número:



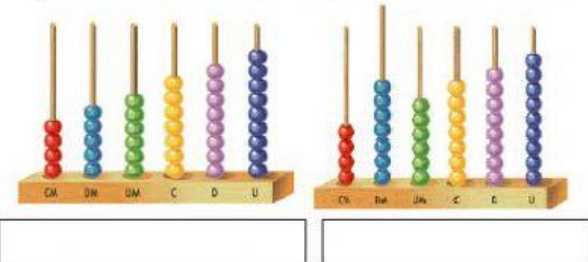
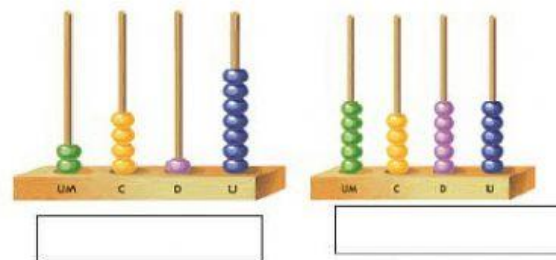
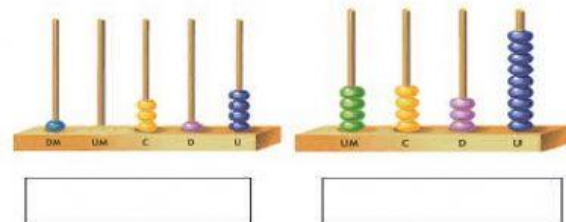
Qual foi o número representado por Cristina?

(A) 1.314 (B) 4.131 (C) 10.314 (D) 41.301

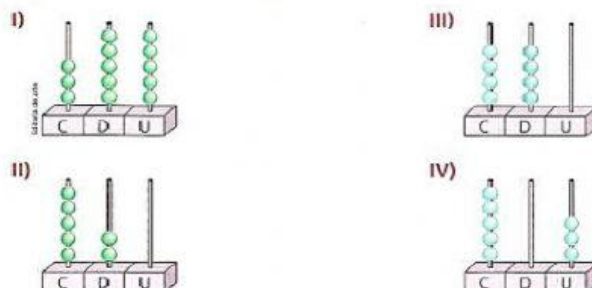
4º) Observe os ábacos e registre os numerais representados.



5º) Que número está representado em cada ábaco?



6º) Mário representou alguns números nos ábacos.



a) Qual é o número representado em cada ábaco?

b) Qual deles é o maior?

c) Qual é o menor?