

Soal Matematika Kelas 3 Membandingkan dan Mengurutkan Bilangan Cacah Sampai 1.000 (Kurikulum Merdeka)

diaryguru.com/2024/07/soal-matematika-kelas-3-membandingkan.html

Soal Ulangan Harian	
Kurikulum	Merdeka
Mata Pelajaran	Matematika
Bab I	Bilangan Cacah sampai 1.000
Sub Bab	Membandingkan dan Mengurutkan Bilangan Cacah Sampai 1.000

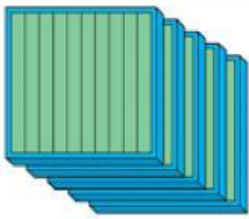


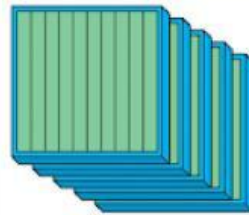


Diharapkan siswa mampu membandingkan dan mengurutkan suatu bilangan

Soal Matematika Kelas 3 Membandingkan dan Mengurutkan Bilangan Cacah Sampai 1.000

Pilihan Ganda

Soal No.1

Perhatikan gambar!

Bilangan A			
	Ratusan	Puluhan	Satuan
Bilangan B			
	Ratusan	Puluhan	Satuan

Berikut ini pernyataan yang tepat yaitu. . .

A. bilangan A lebih besar dari bilangan B

- B. bilangan A lebih kecil dari bilangan B
- C. bilangan A sama dengan bilangan B

Soal No.2

Perhatikan gambar!



Berikut ini pernyataan yang tepat yaitu. . .

- A. kelereng milik Rian lebih banyak
- B. kelereng milik Adit lebih banyak
- C. kelereng milik Adit dan Rian sama

Soal No.3

Perhatikan gambar!



Berikut ini pernyataan yang tepat yaitu. . .

- A. kertas milik Ayu lebih banyak
- B. kertas milik Dodit lebih banyak
- C. kertas milik Ayu dan Dodit sama

Soal No.4

Perhatikan gambar!



Anak yang jarak rumahnya paling jauh ke sekolah yaitu. . .

- A. Ratih
- B. Dio
- C. Rudi

Soal No.5

Perhatikan bilangan berikut!

573 562

Tanda yang tepat untuk mengisi titik-titik di atas yaitu. . .

- A. >
- B. <
- C. =

Soal No.6

Perhatikan bilangan berikut!

612 592

Tanda yang tepat untuk mengisi titik-titik di atas yaitu. . .

- A. >
- B. <
- C. =

Soal No.7

Perhatikan bilangan berikut!

666 691

Tanda yang tepat untuk mengisi titik-titik di atas yaitu. . .

- A. >
- B. <
- C. =

Soal No.8

Perhatikan bilangan berikut!

905 905

Tanda yang tepat untuk mengisi titik-titik di atas yaitu. . .

A. >

B. <

C. =

Soal No.9

Perhatikan bilangan berikut!

825 842

Kata perbandingan yang tepat untuk mengisi titik-titik di atas yaitu. . .

A. lebih dari

B. kurang dari

C. sama dengan

Soal No.10

Perhatikan bilangan berikut!

365 375

Kata perbandingan yang tepat untuk mengisi titik-titik di atas yaitu. . .

A. lebih dari

B. kurang dari

C. sama dengan

Soal No.11

Perhatikan gambar!



Urutan anak yang memiliki kelereng dari yang paling sedikit yaitu . . .

A. Adi, Made, Banu

- B. Adi, Banu, Made
- C. Banu, Made, Adi

Soal No.12

Perhatikan pernyataan berikut!

1. Jarak rumah Sindu ke sekolah adalah 325 meter
2. Jarak rumah Aditama ke sekolah adalah 390 meter
3. Jarak rumah Bima ke sekolah adalah 423 meter

Urutan anak yang jarak rumahnya ke sekolah dari paling jauh yaitu . . .

- A. Sindu, Bima, Aditama
- B. Bima, Sindu, Aditama
- C. Bima, Aditama, Sindu

Soal No.13

Perhatikan bilangan berikut!

654, 456, 710

Urutan bilangan dari yang terbesar ke terkecil yaitu. . .

- A. 654, 456, 710
- B. 710, 654, 456
- C. 710, 456, 654

Soal No.14

Perhatikan bilangan berikut!

560, 528, 510

Urutan bilangan dari yang terkecil ke terbesar yaitu. . .

- A. 510, 528, 560
- B. 510, 560, 528
- C. 560, 528, 510

Soal No.15

Perhatikan bilangan berikut!

109, 181, 175

Urutan bilangan dari yang terbesar ke terkecil yaitu. . .

- A. 181, 175, 109
- B. 109, 175, 181
- C. 181, 109, 175

Isian

Isilah titik-titik dengan tanda $>$, $<$, atau $=$!

1. 108 . . . 115
2. 550 . . . 515

- 3. 539 . . . 592
- 4. 652 . . . 598
- 5. 606 . . . 606