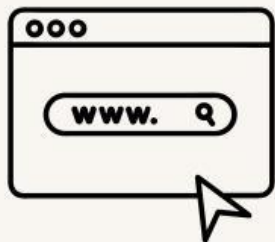


Nama: _____


Kelas: _____

HUBUNGAN SUDUT PADA GARIS SEJAJAR

Awalan



Perhatikan vidio berikut ini!




 **LIVEWORKSHEETS**

Nama: _____

Kelas: _____

HUBUNGAN SUDUT PADA GARIS SEJAJAR

Temukan pernyataan yang benar sesuai dengan !



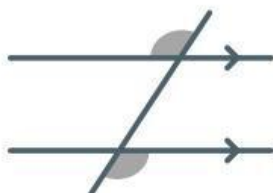
Sudut dalam bersebrangan

Sudut luar bersebrangan

Sudut luar bersebrangan

Sudut dalam sepihak

Sudut sehadap

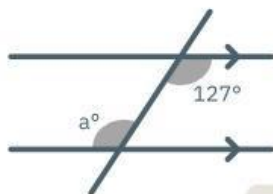


Nama: _____

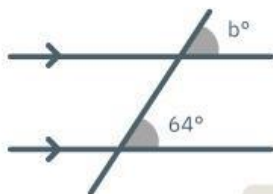
Kelas: _____

HUBUNGAN SUDUT PADA GARIS SEJAJAR

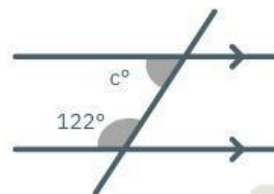
Temukan sudut yang hilang menggunakan aturan sudut sejajar



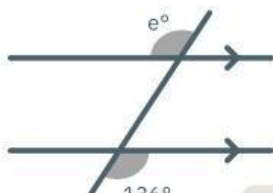
a =



b =



c =



e =



f =