

Porcentajes

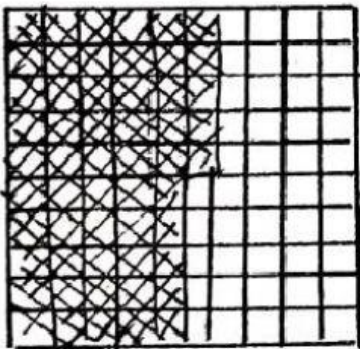
► Escribe cómo se leen estos porcentajes.

20 % ➡ _____
15 % ➡ _____
25 % ➡ _____
50 % ➡ _____


► Escribe en forma de porcentaje.

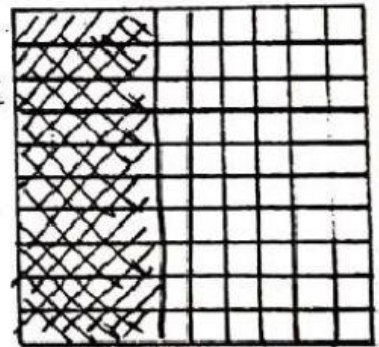
Treinta por ciento ➡ _____
Cuarenta y cinco por ciento ➡ _____
Setenta y cinco por ciento ➡ _____
Noventa por ciento ➡ _____

► Escribe el porcentaje que representa la parte sombreada de cada figura.




55%







► Colorea en cada cuadrado el porcentaje que se indica.



30%



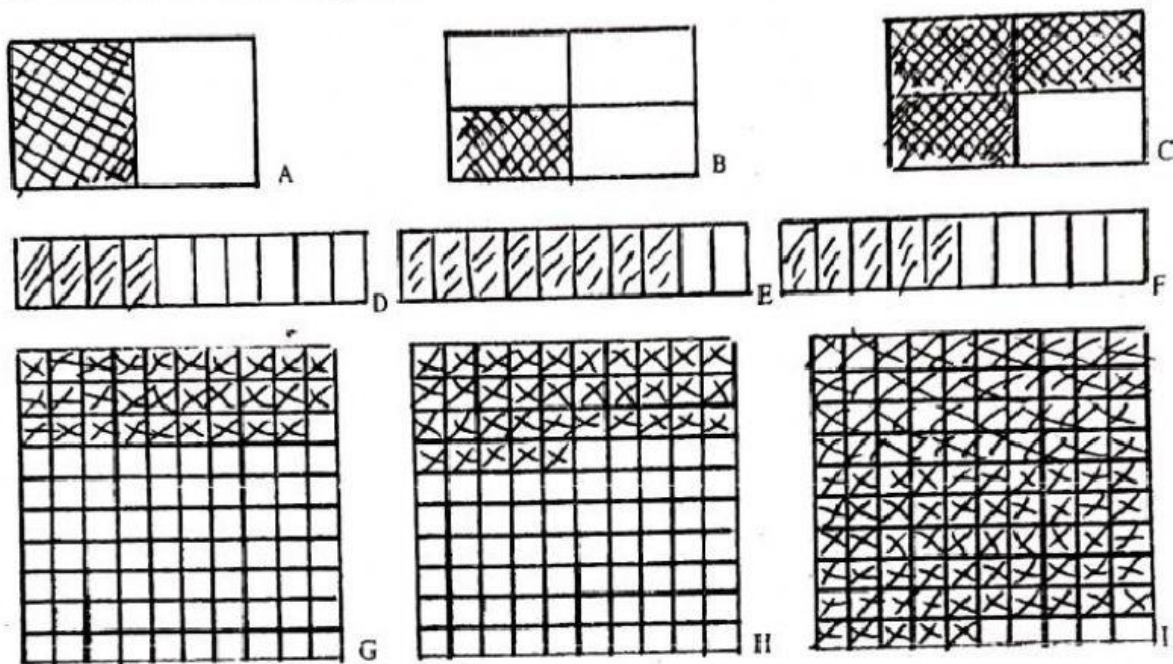
65%



90%

El tanto por ciento y las fracciones

► Expresa en forma de fracción, de porcentaje y de número decimal la parte sombreada de cada figura.



Completa la tabla.

FIGURA	A	B	C	D	E	F	G	H	I
FRACCIÓN	$\frac{1}{2}$								
PORCENTAJE	50%								
NÚMERO DECIMAL	0,5								

6 Colorea en cada figura el porcentaje que se indica.

25%

75%

50%

40%

100%

80%