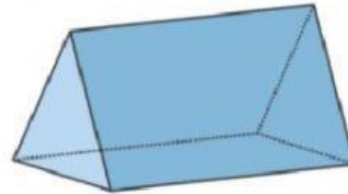

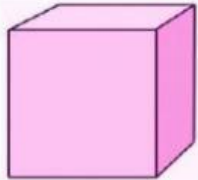


**BELAJAR MEMBUAT SOAL DI LIVE WORKSHEET  
(BELAJAR MATEMATIKA)**

**1 Pilihan Ganda**

select

Berikut ini yang termasuk gambar balok adalah ....



**2 Isian singkat/essai**

teksfield

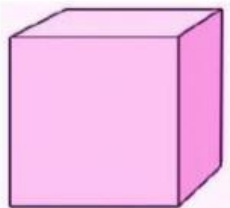


Nama bangun di samping adalah .....

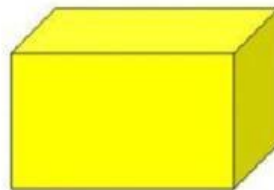
Jelaskan apa yang kamu ketahui tentang gambar di samping!

**3 Drop Down**

Pilihan jawaban banyak  
Siswa disuruh memilih satu



Pilihan Jawaban



Pilihan Jawaban

## 4 Check Box

Pilih salah satu ...dg centang

Berikut ini yang merupakan gambar bangun ruang adalah .....

Lingkaran

Kerucut

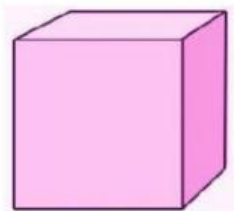
Balok

Persegi

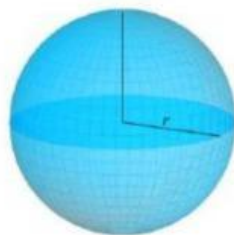
## 5 Join Arrow

Tetp pakai join pertanyaan dan  
Jawaban diberi nomor sama

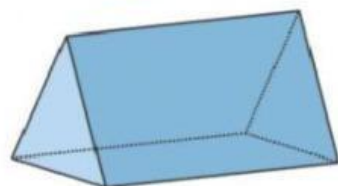
Jodohkan antara gambar dan nama bangun dengan cara menarik garis  
penghubung!



Prisma



Kerucut



Bola


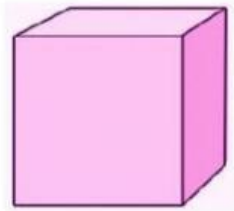


Kubus

## 6 Drag and Drop

Jawaban kita drag  
Pertanyaannya kita drop

**Tarik gambar berikut ke dalam kotak yang sesuai!**



**Balok**

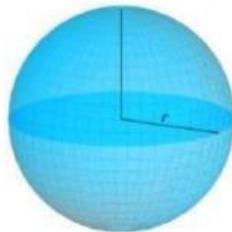
**Kubus**

**Kerucut**

## 7 Listening

Pertanyaan deng listening  
Jawaban menggunakan teksfiled

**Dengarkan suaranya, dan pilih benar atau salah!**



**Benar**

**Salah**

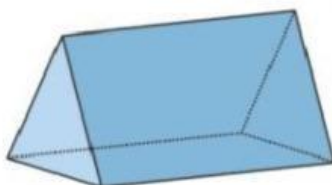
**Benar**

**Salah**

## 8 Speaking

Rekam jawaban dg mengubah bahasa indonesia

**Rekam suaramu untuk menyebutkan nama bangun berikut dengan cara menekan tombol rekam!**



## 9 Word Search

Carilah jawaban yg ada...  
diblok semu, terus centang jawaban yg ada

**Carilah nama-nama bangun ruang!**

A	B	A	L	I	N	G	U
T	A	P	U	T	R	R	O
P	L	P	R	I	S	M	A
B	O	C	D	K	E	F	G
L	K	E	R	U	C	U	T
O	O	T	A	B	U	N	G
K	L	U	I	U	J	I	H
L	I	M	A	S	K	U	I

