










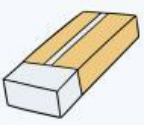
Nama: \_\_\_\_\_

Kelas: \_\_\_\_\_

# MAGNET

Mari amati gambar di bawah ini!  
Tentukan dan kelompokkan benda yang  
dapat ditarik oleh magnet dan tidak  
dapat ditarik oleh magnet.



benang 	garpu 	pensil 	kunci 
gunting 	baut 	obeng 	sisir 
buku 	jam tangan 	topi 	penghapus 

Benda yang dapat ditarik oleh magnet

1 _____	2 _____	3 _____	4 _____	5 _____	6 _____
------------	------------	------------	------------	------------	------------

Benda yang tidak dapat ditarik oleh magnet

1 _____	2 _____	3 _____	4 _____	5 _____	6 _____
------------	------------	------------	------------	------------	------------