

TEKS 1

PANEN CABAI

Andi, Beni, Mita, dan Gita membantu Bibi Eni memanen cabai di pekarangan. Mereka penasaran berapa banyak cabai yang telah berhasil mereka petik. Andi dan teman-temannya lantas menimbang cabai di wadahnya masing-masing. Hasilnya adalah Andi memanen $1\frac{1}{2}$ kg cabai dan Gita memanen $\frac{3}{4}$ kg cabai. Sementara itu, berat cabai yang dipanen Beni adalah $\frac{1}{5}$ dari Andi, sedangkan berat cabai Mita adalah $\frac{1}{3}$ dari berat cabai Gita.



Soal 1

Pernyataan berikut yang benar tentang berat cabai yang dipanen oleh Andi dan teman-temannya adalah (Pilihan jawaban dapat lebih dari satu)

- Andi memanen cabai sebanyak 15 ons
- selisih cabai yang dipanen Gita dan Mita sebanyak 4 ons
- berat cabai yang dipanen Mita 2,5 ons
- jumlah cabai yang dipanen Andi dan Beni 4,5 ons

Soal 2

Bu Eni membutuhkan 1 kg cabai. Andi lantas mengambil dua wadah cabai dari teman-temannya dan menimbanginya. Dua wadah cabai yang ditimbang Andi adalah milik



- A. Andi dan Gita
- B. Andi dan Beni
- C. Gita dan Mita
- D. Gita dan Beni

Soal 3

Dari semua cabai yang telah dipetik Andi dan teman-temannya, Bibi Eni akan menjual 20 ons cabai ke pasar. Sisa cabai akan dibagi sama banyak kepada Andi dan teman-temannya.

Bibi Eni mendapatkan uang Rp 72.000,00 dari hasil penjualan cabai di pasar.

Pernyataan berikut yang benar adalah (Pilihan jawaban dapat lebih dari satu)

- cabai yang dijual lebih sedikit dari cabai yang dibagikan kepada Andi, Beni, Mita, dan Gita
- berat cabai yang akan dibagikan kepada Andi dan teman-temannya adalah 80 gram
- masing-masing anak mendapatkan cabai seberat 0,2 kg
- harga jual cabai per kilo adalah Rp 36.000,00

TEKS 2

MEMBUAT GELANG DARI MANIK-MANIK

Gita baru saja membeli manik-manik berwarna-warni. Ada 70 butir manik-manik berwarna merah, 28 butir manik-manik berwarna biru, dan 42 butir manik-manik berwarna putih. Ia juga membeli benang sepanjang 3 meter. Gita ingin membuat gelang dari bahan-bahan yang telah dibelinya.



Soal 4

Gita ingin membuat gelang sebanyak mungkin dari manik-manik yang dibelinya. Setiap gelang tersusun atas tiga warna manik-manik dengan jumlah yang sama. Berdasarkan pernyataan tersebut, pasangkan pertanyaan-pertanyaan berikut dengan jawaban yang tepat!

No	Pertanyaan	Jawaban
1)	Banyak gelang yang dapat dibuat Gita adalah	3
2)	Berapa banyak manik-manik berwarna merah pada setiap gelang yang dibuat Gita?	14
3)	Manik-manik berwarna biru pada setiap gelang yang dibuat Gita ada	5
4)	Pada setiap gelang yang dibuat Gita terdiri dari manik-manik berwarna putih sebanyak	2
		4

Soal 5

Jika setiap gelang membutuhkan benang sepanjang 25 cm, maka pernyataan berikut yang benar adalah (Pilihan jawaban dapat lebih dari satu)

- benang yang dibeli Gita cukup untuk membuat semua gelang
- panjang benang yang dibutuhkan Gita seluruhnya adalah 35 dm
- benang yang dibeli Gita hanya cukup untuk membuat 12 gelang
- Gita memiliki sisa benang sepanjang 0,5 m

Soal 6

Pernyataan berikut yang benar tentang banyak manik-manik di setiap gelang yang dibuat Gita adalah (Pilihan jawaban dapat lebih dari satu)

- setiap gelang terdiri dari 10 buah manik-manik berwarna-warni
- banyak manik-manik berwarna merah lebih dari manik-manik berwarna biru
- manik-manik yang paling banyak adalah manik-manik berwarna biru
- ada dua manik-manik berwarna putih pada setiap gelang

TEKS 3

PROMO PAKET HEMAT

Andi dan Beni makan bersama di sebuah rumah makan. Adapun harga menu yang ditawarkan sebagai berikut.

Daftar Harga

Nama makanan/minuman	Harga
Nasi	Rp 4.000,00
Paha ayam	Rp 8.000,00
Dada ayam	Rp 8.000,00
Sayap ayam	Rp 6.000,00
Es teh	Rp 3.000,00



Soal 7

Beni tertarik ingin membeli salah satu dari Promo Paket Hemat yang ditawarkan. Manakah paket promo yang lebih menguntungkan untuk dibeli Beni?

- Super Mantap 1
- Super Mantap 2

Jelaskan jawabanmu!

Soal 8

Andi dan Beni sama-sama memesan Promo Paket Hemat yang ditawarkan. Pilihan menu Beni lebih mahal daripada Andi. Jika Beni membayar semua pesanan dengan tiga lembar uang sepuluh ribuan. Tentukan benar atau salah pernyataan-pernyataan berikut!

Berilah tanda centang (✓) pada kolom yang tersedia!

Pernyataan	Benar	Salah
Beni mendapatkan uang kembalian sebesar Rp 4.000,00.		
Andi memilih paket Super Mantap 2.		
Beni dan Andi harus membayar lebih mahal dari harga normal.		
Beni menghemat Rp 6.000,00 dari harga normal.		

Soal 9

Beni masih memiliki satu lembar uang sepuluh ribuan. Jika Beni ingin membawakan oleh-oleh adiknya untuk makan siang, maka makanan yang dapat dibelinya adalah

- A. satu potong paha ayam dan satu nasi
- B. paket Super Mantap 1
- C. satu nasi dan satu potong sayap ayam
- D. satu potong sayap ayam dan segelas es teh

Soal 10

Jika saat itu Andi membawa uang sebesar Rp 20.000,00 dan ia membeli paket Super Mantap 1, maka pernyataan berikut yang benar adalah (Pilihan jawaban dapat lebih dari satu)

- Andi hanya bisa membeli 1 porsi nasi dengan uang kembaliannya
- sisa uang Andi sebesar Rp 5.000,00
- Andi dapat membeli satu potong lauk tambahan dengan sisa uangnya
- uang Andi akan habis tak tersisa jika ia membeli tambahan satu potong sayap ayam dan segelas es teh

TEKS 4

PAKET SEMBAKO (Sembilan Bahan Pokok)

Sebagai wujud rasa syukur, Pak Wayan ingin membagikan paket sembako pada keluarga yang kurang mampu di sekitar tempat tinggalnya. Untuk keperluan acara

tersebut, Pak Wayan telah membeli 600 ons beras, 72 kg telur, dan 0,24 kuintal gula. Semuanya telah dikemas dengan baik. Pak Wayan akan mulai membagikan paket sembako pada pukul 14.00.



Soal 11

Tentukan benar atau salah dari pernyataan-pernyataan berikut jika setiap keluarga mendapatkan paket sembako berisi beras, telur, dan gula yang sama banyak!

Berilah tanda centang (✓) pada kolom yang tersedia!

Pernyataan	Benar	Salah
Paket sembako yang dibagikan Pak Wayan berisi 6 kg beras, 5 kg telur, dan 2 kg gula.		
Pak Wayan telah menyiapkan 12 paket sembako dengan isi yang sama banyak.		
Setiap keluarga akan mendapatkan paket sembako yang berisi 5 kg beras, 6 kg telur, dan 2 kg gula.		
Total paket sembako yang dibagikan Pak Wayan seberat 1.300 gram dengan rincian: 600 gram beras, 500 gram telur, dan 200 gram gula.		

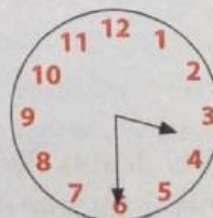
Soal 12

Setelah satu setengah jam, Pak Wayan selesai membagikan paket sembako kepada tetangganya yang kurang mampu. Gambar yang menunjukkan waktu Pak Wayan menyelesaikan kegiatan berbaginya adalah

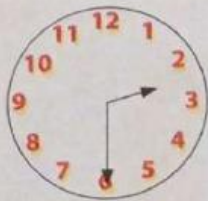
A.



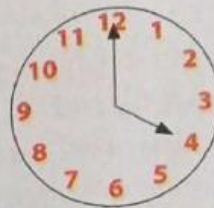
C.



B.



D.



Soal 13

Besar sudut yang dibentuk oleh dua jarum jam yang menunjukkan waktu selesainya kegiatan Pak Wayan adalah

TEKS 5

MEMBUAT KOPI DALGONA

Akhir-akhir ini, banyak orang mencoba untuk membuat kopi dalgona. Nama dalgona sendiri berasal dari istilah Korea Selatan yang berarti kopi berbusa. Kopi ini memiliki tampilan dan rasa yang cukup unik. Cara membuatnya pun cukup mudah. Berikut bahan-bahan dan cara pembuatan satu gelas kopi dalgona yang lezat.

Bahan-bahan

30 gram bubuk kopi, 30 gram gula, 30 ml air panas, 125 ml susu cair, dan 1 cup es batu.

Cara membuat

1. Masukkan bubuk kopi dan gula ke dalam mangkuk.
2. Tambahkan air panas, lalu kocok hingga mengembang, kemudian sisihkan.
3. Masukkan es batu dan susu cair ke dalam gelas.
4. Tambahkan campuran kopi dan gula yang sudah mengembang di atasnya.
5. Kopi dalgona siap dinikmati.



Soal 14

Setelah membaca artikel di atas, Feni tertarik ingin membuat kopi dalgona. Bersama ketiga temannya Feni ingin membuat kopi dalgona bersama-sama.


Berdasarkan pernyataan tersebut, pasangkan pertanyaan-pertanyaan berikut dengan jawaban yang tepat!

No	Pertanyaan	Jawaban
1)	Banyak bubuk kopi yang dibutuhkan Feni untuk membuat empat gelas kopi dalgona adalah ... ons.	0,62
2)	Banyak gula yang dibutuhkan Feni untuk membuat tiga gelas kopi dalgona adalah pon.	1,2
3)	Air hangat dan susu cair yang dibutuhkan Feni dan ketiga temannya adalah ... liter.	0,18
		0,465

Soal 15

Berikut adalah gambar persediaan susu cair di rumah Feni.

Pernyataan berikut yang benar berdasarkan persediaan susu cair tersebut adalah (Pilihan jawaban dapat lebih dari satu)



- Feni dapat membuat empat gelas kopi dalgona dengan persediaan susu yang ia miliki
- susu cair yang disediakan Feni tidak cukup untuk membuat empat gelas kopi dalgona
- susu cair masih tersisa 50 cc setelah digunakan Feni untuk membuat empat gelas kopi dalgona
- Feni masih membutuhkan tambahan 125 ml susu untuk membuat empat gelas kopi dalgona