

# LKPD

## SISTEM PEREDARAH DARAH MANUSIA



YESSY ASNOVIDA AMRI, S.PD  
NIP. 19931116 201903 2 001

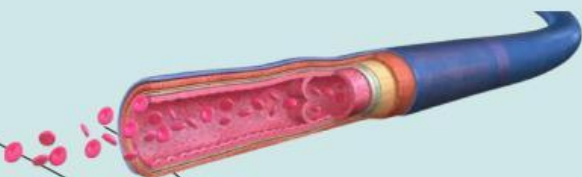
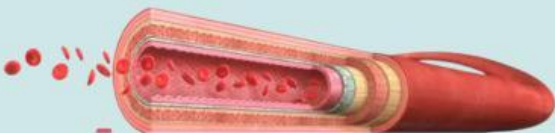
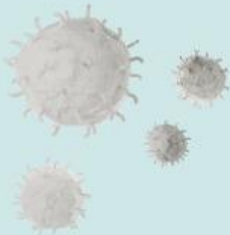


# Aktivitas 1

Mari  
mengingat....



Hubungkan gambar dengan nama yang tepat !



Arteri

Eritrosit

Leukosit

Jantung

Vena

Pembuluh  
Darah

# Aktivitas 2

Isilah  
Tabel berikut !


	FUNGSI
Jantung	
Plasma Darah	
Eritrosit	
Leukosit	
Trombosit	
Pembuluh Darah	





# Aktivitas 3

Drag bagian dari jantung sesuai dengan tempatnya!

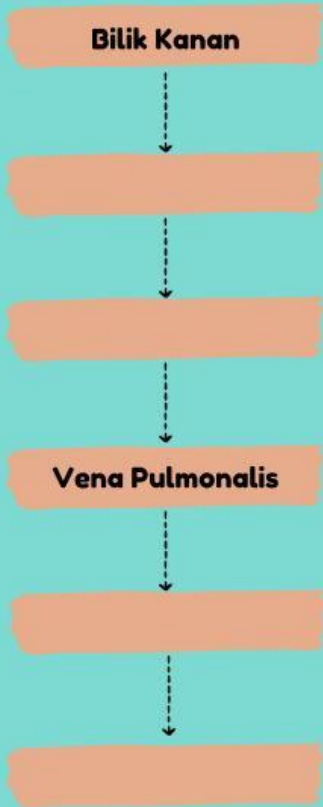


- Bilik Kiri
- Bilik Kanan
- Serambi Kiri
- Serambi Kanan
- Katup Trikuspidalis
- Katup Bikuspidalis
- Vena Pulmonalis
- Vena Pulmonasli
- Arteri Pulmonalis
- Vena Cava
- Aorta

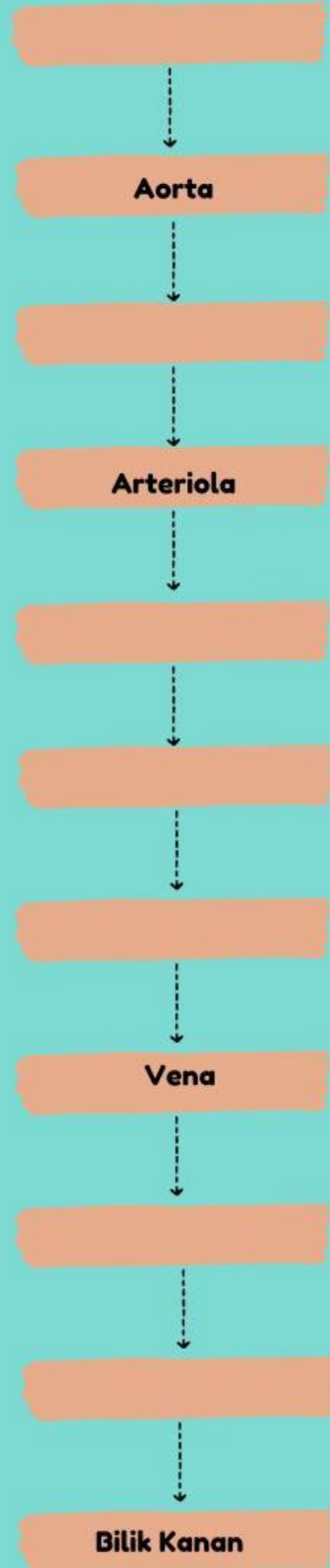
# Aktivitas 4

Lengkapi skema Peredaran Darah berikut:

## Peredaran darah kecil



## Peredaran darah besar



# Aktivitas 5

## Word Search

START

C	A	B	E	M	E	R	A	H	A
L	S	J	R	T	R	A	W	A	N
E	A	A	S	A	H	A	R	U	A
U	T	N	U	R	I	U	M	A	K
K	U	T	O	O	P	I	A	K	U
I	R	U	I	S	O	T	G	S	D
M	Y	N	S	I	T	U	O	R	T
I	R	G	N	K	E	R	R	D	U
A	Y	K	E	E	N	I	O	M	H
U	T	O	T	S	S	H	S	K	M
R	O	R	R	A	I	M	T	O	A
Y	R	O	E	M	U	R	P	O	R
R	R	N	P	A	N	E	M	I	A
Y	E	E	I	L	R	R	C	V	T
B	U	S	H	A	N	T	X	Z	W

Clue: Gangguan pada sistem peredaran darah

