
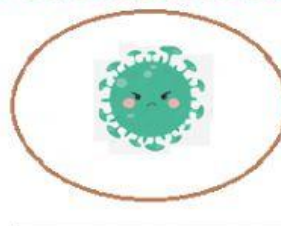
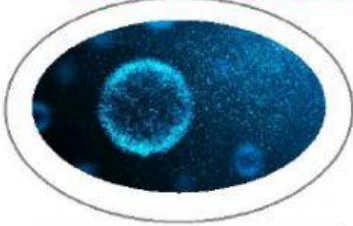




PROFESORA: AILY MELISSA GUTARRA BONIFAZ

LOS CONJUNTOS

OBSERVA LOS CONJUNTOS Y ESCRIBE QUE TIPO DE CONJUNTO ES:



OBSERVA EL VIDEO Y RESPONDE:

En el video...

A, B y C son llamados:



y



son llamados:

COMPLETA LOS CONJUNTOS

$A = \{X/X \text{ es par} / 4 \geq x \geq 12\}$

$B = \{X/X \text{ es impar} / 3 \geq x > 10\}$

6

8

4

11

7

9

10

5

12



OBSERVA Y RELACIONA CORRECTAMENTE:

$W = \{H, A, S, E, T\}$

$Y = \{H, E, A, C, O\}$

$Z = \{S, O, P, I, T, A\}$

$W \cap Y =$

$= \{A, O\}$

$Y \cap Z =$

$= \{H, A, E\}$

$W \cap Z =$

$= \{A\}$

$W \cap Z \cap Y =$

$= \{A, T, S\}$

COLOCA \in y \notin EN CADA CASO:

$F = \{x/x \text{ partes de la computadora}\}$

$G = \{x/x \text{ son protocolos de seguridad para evitar el covid}\}$



☐ F



☐ F



☐ G



☐ F



☐ F



☐ G



☐ F



☐ G



☐ G



ESCUCHA EL AUDIO