


Lola Palupi

LEMBAR KERJA PESERTA DIDIK



BANGUN DATAR

LIVE WORKSHEETS

Kompetensi Dasar

3.6 Mengidentifikasi dan mengelompokkan berbagai bangun datar (persegi, persegi panjang, lingkaran) berdasarkan ciri-ciri seperti jumlah sisi, bentuk sudut, dan simetri.


3.7 Mengidentifikasi dan mengelompokkan berbagai bangun ruang (kubus, balok) berdasarkan ciri-ciri seperti jumlah sisi, bentuk permukaan, dan hubungan antar-sisi.

3.8 Menggambarakan berbagai bangun datar (persegi, persegi panjang, segitiga, lingkaran) berdasarkan nama bangun dan ciri-cirinya.

3.9 Menggambarakan berbagai bangun ruang (kubus, balok) berdasarkan nama bangun dan ciri-cirinya, serta memahami hubungan antara bentuk bangun ruang dan bangun datar.



Tujuan

1. Melalui pengerjaan LKPD, siswa mampu mengelompokkan model bangun datar persegi, persegi panjang, dan lingkaran berdasarkan ciri- cirinya dengan tepat. (C5- Critical thinking, Collaboration)
 2. pengerjaan LKPD, siswa mampu mengelompokkan model bangun ruang kubus dan balok berdasarkan ciri-cirinya dengan tepat. (C5-Critical thinking, Collaboration)
 3. Melalui pengerjaan LKPD, siswa mampu menggambar bangun datar berdasarkan nama bangun dengan tepat. (C5- Critical thinking, Collaboration, Creativity)
 4. Melalui pengerjaan LKPD, siswa mampu menggambar bangun ruang berdasarkan nama bangun dengan tepat. (C5- Critical thinking, Collaboration, Creativity)
- 

Petunjuk

Cermatilah petunjuk yang ada pada setiap kegiatan, dan lakukan pengerjaan LKPD mengikuti petunjuk tersebut

Materi Bentuk-Bentuk Bangun Datar

Bangun Datar



Persegi



Persegi Panjang



Segitiga



Jajar Genjang




Trapesium



Belah Ketupat



Lingkaran



Segilima

Simaklah penjelasan video pembelajaran berikut!

Kegiatan 1

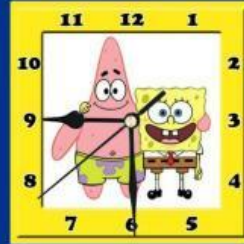
1.1 Mengelompokkan Bangun Datar

Kelompokkanlah model bangun dibawah ini berdasarkan ciri- ciri bangun datar, dengan cara seretlah gambar model bangun yang tersedia, dan letakkan pada kolom ciri-ciri yang tepat

Aku memiliki 4 buah sisi



Aku memiliki satu sisi dan satu titik pusat



Kegiatan 2

2.1 Menjodohkan Bangun Datar

Silahkan Pasangkan Bangun Ruang di bawah ini

Persegi

Lingkaran

SEGITIGA



Yuk Simpulkan!

Setelah melakukan kegiatan
1&2 Simpulkan mengenai pembelajaran
hari ini!

