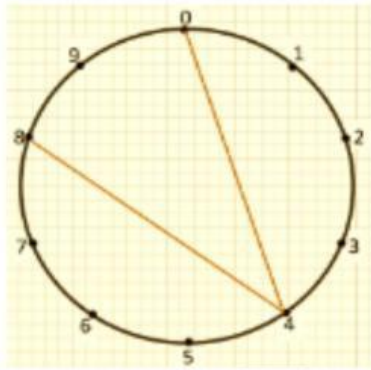


## ESTRATEGIA DE LA MULTIPLICACIÓN

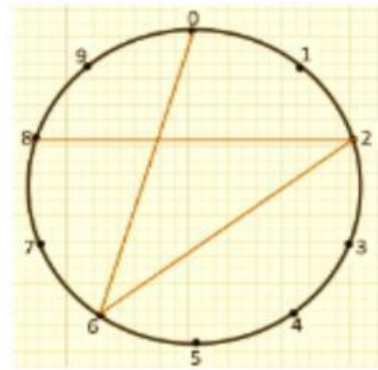
Multiplicando por 4



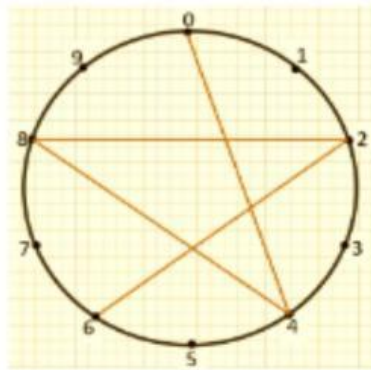
$$4 \times \square = \square$$

Cuenta las líneas que forman la estrella. escribe debajo de cada forma, la multiplicación que representa...

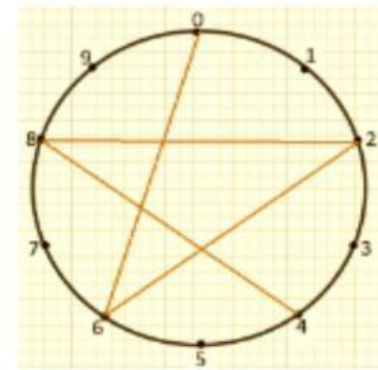
Multiplicando por 6



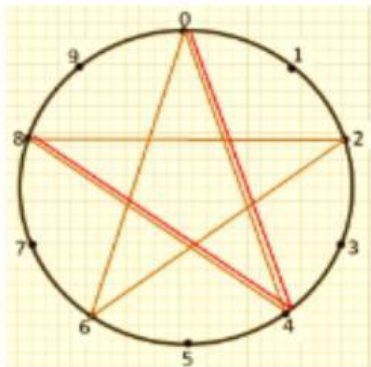
$$6 \times \square = \square$$



$$4 \times \square = \square$$

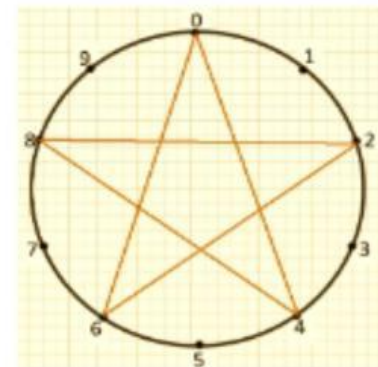


$$6 \times \square = \square$$

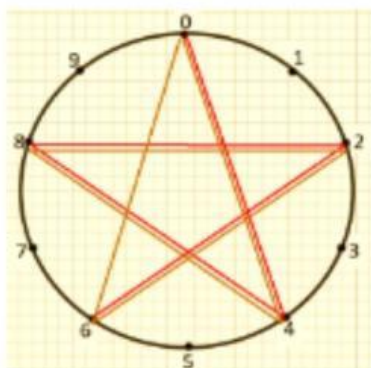


$$4 \times \square = \square$$

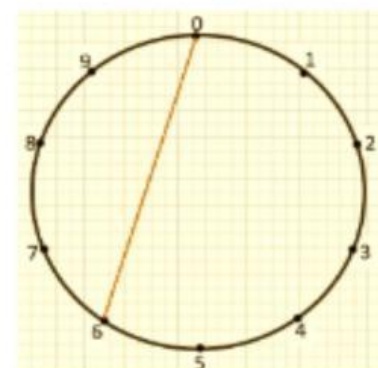
el color naranja es la primera vuelta de la estrella...  
el color rojo es la segunda vuelta de la estrella...



$$6 \times \square = \square$$



$$4 \times \square = \square$$



$$6 \times \square = \square$$

Sugerencia:  
Sigue con el dedo el sentido y el orden como va la línea que forma la estrella... se te hará más fácil