



# EJERCICIOS

## NÚMEROS DEL 40 AL 50

Observa el video y contesta.

**Números 40 al 50**

Antes  49  Después

?


45 47 48 50

PROFRA. NORMA URBINA

NOMBRE: \_\_\_\_\_ GRUPO: \_\_\_\_\_

1. ¿Qué números son los siguientes? Escribe su nombre.


2. Une con una línea el número con su conjunto.




3. Lee y escribe el número que corresponda:


**Cuarenta y seis**

**Cuarenta y ocho**

4. Completa la numeración.



5. ¿Cuántas naranjas faltan para completar 50?



Respuest



3. Escribe los números del 40 al 50

.													
.													
X													
.													
.													
X													
.													
.													
X													
.													
.													
X													