



## PENILAIAN HARIAN BILANGAN BULAT KELAS VI SDN 008 MERAL

Nama :

### A. MENULIS BILANGAN BULAT

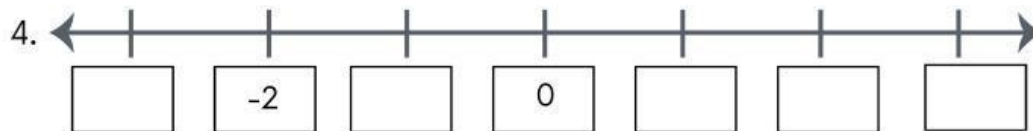
Tulislah simbol bilangan bulat dari pernyataan berikut!

1. Suhu  $5^{\circ}\text{C}$  diatas 0 =

2. Suhu  $11^{\circ}\text{C}$  dibawah 0 =

### B. GARIS BILANGAN BULAT

Lengkapilah garis bilangan berikut dengan menuliskan bilangan yang benar!



### C. MEMBANDINGKAN BILANGAN BULAT

Berilah tanda  $<$  atau  $>$  pada kotak sehingga menjadi pernyataan yang benar!

5.  $0 - 7$    $12 + 8$

6.  $-2 \times 5$    $48 : 12$

### D. URUTKAN BILANGAN-BILANGAN BERIKUT!

7.  $-9, 4, 6, -7, 0$

Urutan terbesar :

Urutan terkecil :



### E. HITUNGLAH HASIL OPERASI HITUNG CAMPURAN BERIKUT!

8.  $-22 + 13 \times (-12 - 8) =$

$=$

$=$

$=$







9.  $-5 - 13 \times 2 =$

$=$

$=$

### F. JAWABLAH PERTANYAAN BERIKUT BERDASARKAN INFORMASI YANG TERDAPAT PADA TABEL!

#### Suhu Berbagai Kota di Dunia

	-31 °C	Oymyakon, Sakha, Rusia (Salju Ringan)
	-14 °C	Titlis, Swiss (Salju)
	-2 °C	Seoul, Korea Selatan (Berawan)
	6 °C	Tokyo, Jepang (Cerah)
	11 °C	New Delhi, India (Kabut)
	30 °C	Kupang, NTT (Sebagian Berawan)

Soal No. 10

- Kota mana yang cuacanya paling dingin?

- Kota mana saja yang lebih panas dibanding Tokyo?

- Kota mana yang lebih panas, New Delhi atau Titlis?

**SEMOGA BERHASIL**



## REFLEKSI

Menurut saya Penilaian Harian Matematika tentang Bilangan Bulat hari ini .....



**SANGAT MUDAH**



**SEDIKIT SULIT**



**SANGAT SULIT**

## UMPAN BALIK

Saya harus

Supaya

