

15×10



105

150

100

NINGUNA

2

1

$2 \times 2 \times 4$



1

2

3

4

16

18

20

NINGUNA

RESPUESTA

2

$3 \times 2 \times 9$



1

2

3

4

63

55

45

NINGUNA

RESPUESTA

3

$18 : 2$



1

2

3

4

7

8

9

NINGUNA

RESPUESTA

4

$32 : 8$



1

2

3

4

5

4

6

NINGUNA

RESPUESTA

5

$49 : 7$



1

2

3

4

7

8

9

NINGUNA

RESPUESTA

8

$1,9 + 2,5$



1

2

3

4

3,4

3,5

4,4

NINGUNA

RESPUESTA

9

$4,9 + 6,5$



1

2

3

4

10,4

11,3

15,4

NINGUNA

RESPUESTA

10

$1,57 + 2,5$



1

2

3

4

3,4

3,5

4,4

NINGUNA

RESPUESTA

11

$6,41 + 4,20$



1

2

3

4

10,41

10,60

10,61

NINGUNA

RESPUESTA

12

$5,57 + 11,22$



1

2

3

4

15,2

15,5

15,7

NINGUNA

RESPUESTA

13

$10,05 + 5,9$



1

2

3

4

10,34

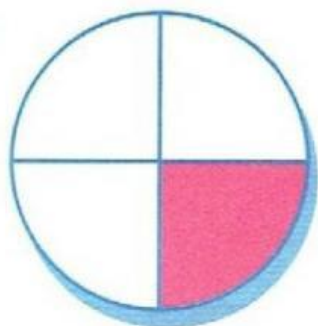
15,24

15,95

NINGUNA

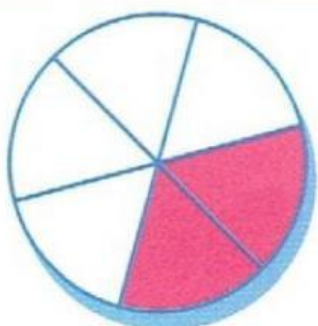
RESPUESTA

16



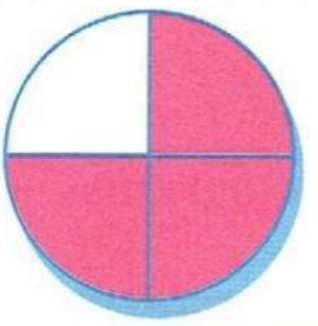
1	2	3	4
$\frac{1}{2}$	$\frac{1}{3}$	$\frac{1}{4}$	$\frac{1}{6}$

17



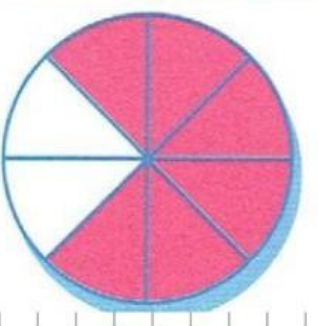
1	2	3	4
$\frac{2}{4}$	$\frac{4}{6}$	$\frac{3}{6}$	$\frac{2}{6}$

19



1	2	3	4
$\frac{1}{4}$	$\frac{4}{3}$	$\frac{3}{4}$	$\frac{1}{3}$

20



1	2	3	4
$\frac{2}{4}$	$\frac{6}{8}$	$\frac{2}{8}$	$\frac{5}{8}$



3. Escribe las cifras de los números como en el ejemplo:

39

decenas

3

unidades

9

22

1.089

unidades

decenas

centenas

unidades
de mil

23

10.090

decenas

centenas

unidades

unidades
de mil

decenas
de mil

24

10.109


unidades
de mil

decenas
de mil

unidades

decenas

centenas





4. Realiza las siguientes operaciones:

25

8165 x 35 =

26

1764 x 79 =

27

6752 : 32 =

28

75072 : 69 =







1. David tiene 125 láminas de una colección de 250, su hermana Laura tiene 150 y su hermana María 100. ¿Cuántas le faltan a cada uno para completar la colección?

RESULTADOS

¿Cuántas láminas le faltan a David?

1

¿Cuántas láminas le faltan a Laura?

2

¿Cuántas láminas le faltan a María?

3

3. A Rodrigo le gusta coleccionar autos y tiene una colección de 7 autos. El día de su cumpleaños sus dos abuelos le regalaron 6 autos cada uno y sus dos abuelas 5 autos cada una. Contesta a las siguientes preguntas.

RESULTADOS

¿Cuántos autos tenía coleccionados?

9

¿Cuántos autos le dieron sus abuelos?

10

¿Cuántos autos le dieron sus abuelas?

11

¿Cuántos autos le dieron el día de su cumpleaños?

12

