



Assessment of Learning_1

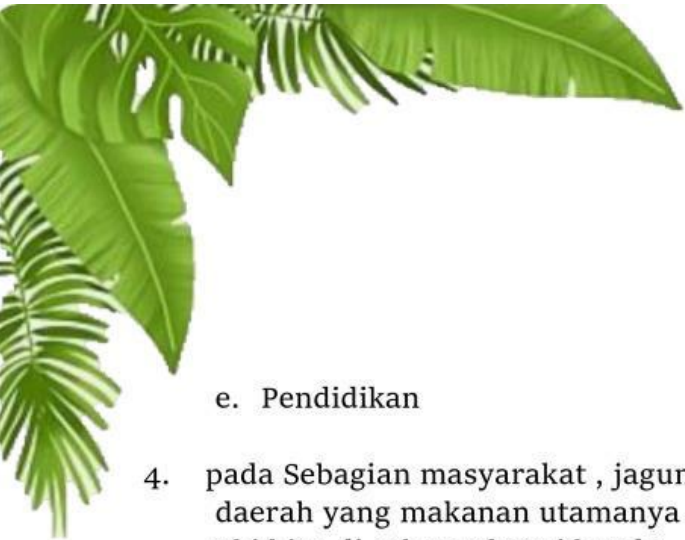
Pilihlah jawaban yang dianggap paling tepat

1. Setiap manusia mempunyai kebutuhan hidup yang berbeda-beda. Kebutuhan merupakan
 - a. Segala sesuatu yang harus di penuhi
 - b. Segala sesuatu yang diperlukan manusia untuk mensejahterakan hidupnya
 - c. Bagian hidup manusia yang paling penting
 - d. Segala sesuatu yang memerlukan pengorbanan
 - e. Factor ekonomi yang paling mendasar dalam hidup manusia

2. Seorang dokter dan pedagang akan memiliki kebutuhan yang yang berbeda, hal tersebut di sebabkan oleh factor....
 - a. Tingkat pendapatan
 - b. Tingkat Pendidikan
 - c. Budaya
 - d. Status social
 - e. Selera

3. Tradisi munjungan seperti ngarot, sedeka bumu, mapag sri, dan lain-lain merupakan salah satu ritual yang berkembang dalam masyarakat khususnya Kab.Indramayu . Hal tersebut merupakan pemenuhan kebutuhan yang dipengaruhi oleh....
 - a. Pendapatan
 - b. Jumlah penduduk
 - c. Selera
 - d. Social budaya





e. Pendidikan

4. pada Sebagian masyarakat , jagung, ubi, merupakan makanan pokok pada suatu daerah yang makanan utamanya adalah beras. Hal tersebut karena jagung dan ubi bisa di sebut sebagai benda....

a. Substitusi

b. Komplementer

c. Bebas atau non ekonomi

d. Ekonomi

e. Konsumsi

5. Barang yang penggunaannya membutuhkan pelengkap barang Lain agar dapat dikategorikan sebagai barang. Barang pelengkap tersebut dinamakan

a. Barang illith

b. Barang substitusi

c. Barang komplementer

d. Barang ekonomi

e. Barang produksi

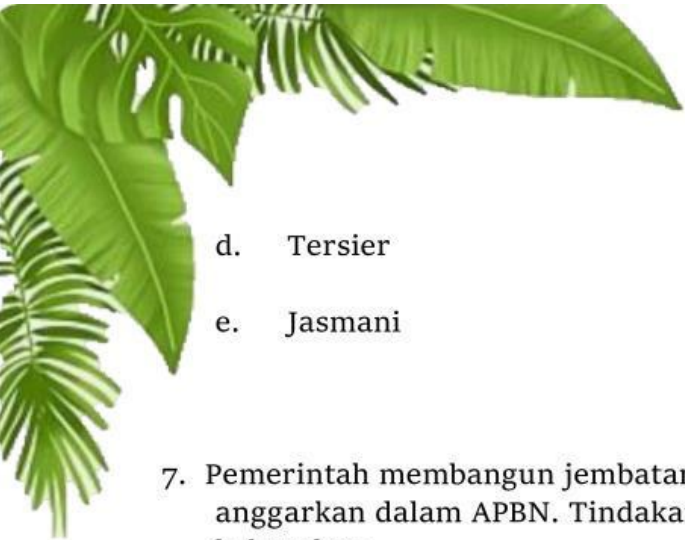
6. Setiap hari Jumat kantor selalu mengadakan senam agar kebugaran karyawannya tetap terjaga. Dalam hal ini senam merupakan alat pemuas kebutuhan

a. Rohani

b. Primer

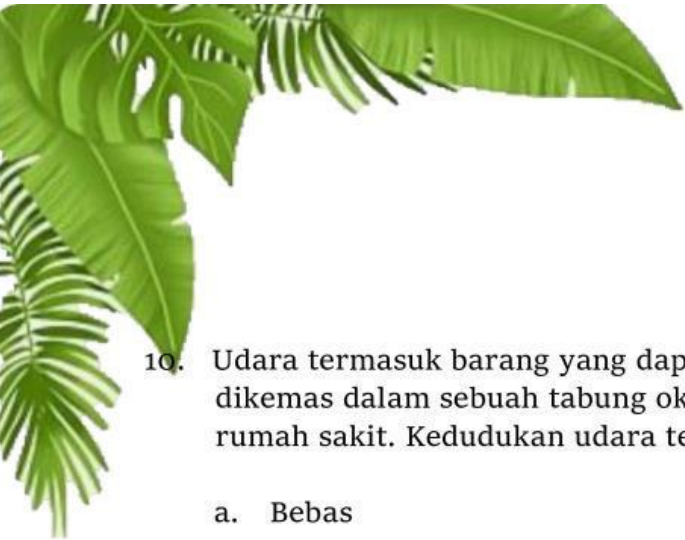
c. Sekunder



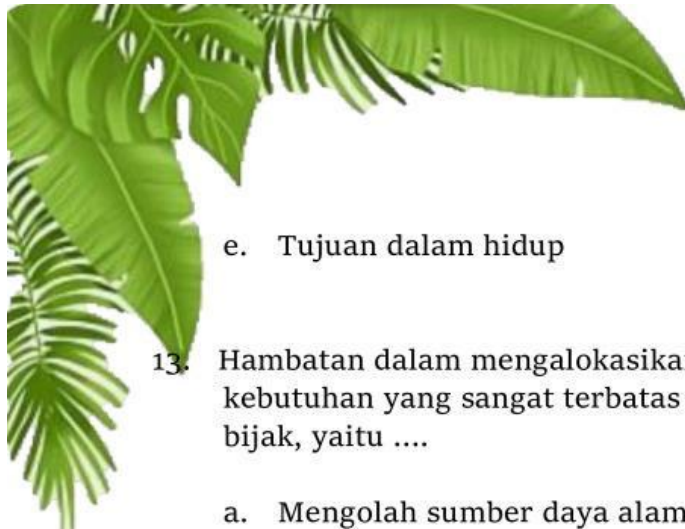
- 
- d. Tersier
 - e. Jasmani

7. Pemerintah membangun jembatan dari jalan raya dari dana yang sudah di anggarakan dalam APBN. Tindakan pemerintah tersebut adalah untuk memenuhi kebutuhan ...
- a. Jasmani
 - b. Sekarang
 - c. Akan datang
 - d. Kolektif
 - e. Primer
8. Dalam ilmu ekonomi , ukuran untuk kemakmuran atau kesejahteraan dapat dilihat dan di ukur dari
- a. Kemampuan memiliki alat pemuas kebutuhan melebihi kebutuhannya
 - b. Kemampuan memenuhi berbagai macam kebutuhannya
 - c. Kemampuan memenuhi kebutuhan yang paling mendesak
 - d. Kemampuan memenuhi kebutuhan jasmani dan rohani secara seimbang
 - e. Kemampuan memiliki pendapatan untuk memenuhi kebutuhan yang beragam
9. Barang bebas adalah barang yang dapat dimiliki tanpa adanya pengorbanan. Suatu saat barang bebas dapat menjadi barang ekonomi karena...
- a. Ketersediaan terbatas
 - b. Manfaatnya berkurang
 - c. Kesulitan dalam memperolehnya
 - d. Jumlahnya terlalu banyak
 - e. Tidak dapat diganti oleh barang lain



- 
10. Udara termasuk barang yang dapat diperoleh secara bebas . Apabila udara dikemas dalam sebuah tabung oksigen dan digunakan untuk kebutuhan di rumah sakit. Kedudukan udara tersebut berubah menjadi barang
- Bebas
 - Konsumsi
 - Ekonomi
 - Produksi
 - komplementer
11. Budi memiliki pendapatan tetap per bulan. Pendapatannya tersebut tidak cukup untuk memenuhi semua kebutuhannya ditambah rekreasi dengan teman-temanya. Oleh karena itu, Tindakan yang dapat dilakukan Budi adalah.....
- Menentukan skala prioritas kebutuhan
 - Meminjam uang kepada teman agar kebutuhan terpenuhi secara keseluruhan
 - Memperhitungkan kebutuhan yang mendesak
 - Mempertimbangkan kebutuhan menurut waktu
 - Tidak memenuhi kebutuhannya secara bersamaan
12. Kedudukan suatu barang pada seseorang berbeda satu dengan yang lain. Barang primer yang kita butuhkan dapat menjadi barang sekunder bagi orang lain. Hal ini disebabkan adanya perbedaan....
- Agama dan kepercayaan
 - Kondisi dan status social
 - Latar belakang Pendidikan
 - Sudut pandang seseorang dalam hidup





e. Tujuan dalam hidup

13. Hambatan dalam mengalokasikan sumber daya yang terbatas untuk memenuhi kebutuhan yang sangat terbatas dapat di atasi dengan melakukan sikap yang bijak, yaitu

- a. Mengolah sumber daya alam sebanyak-banyaknya sebelum habis
- b. Mencari alternatif sumber daya lain sebagai pengganti
- c. Mencari sumber daya alam dari daerah lain
- d. Mendayagunakan sumber daya secara optimal untuk kepentingan pribadi
- e. Menjaga kelestarian dan kelangsungan hidup sumber daya alam

14. Perhatikan factor-faktor berikut

- (1) Tingkat Pendidikan
- (2) Kemajuan teknologi
- (3) Jumlah penduduk
- (4) Tingkat pendapatan
- (5) Selera Masyarakat

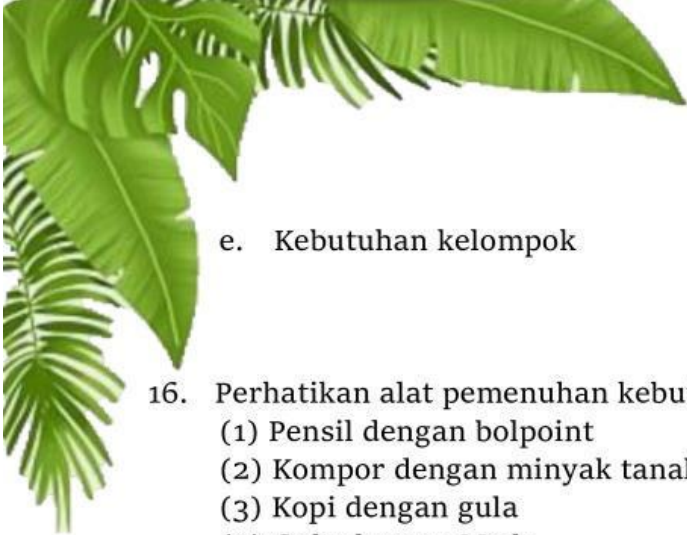
Faktor eksternal penyebab kebutuhan manusia tidak terbatas adalah.....

- a. 1 dan 2
- b. 2 dan 3
- c. 2 dan 4
- d. 3 dan 4
- e. 4 dan 5

15. Manusia melakukan kegiatan ekonomi untuk memenuhi kebutuhan hidup. Segala sesuatu yang dibutuhkan manusia untuk memenuhi hidup disebut....

- a. Barang bebas
- b. Sumber daya modal
- c. Factor produksi
- d. Alat pemuas kebutuhan





e. Kebutuhan kelompok

16. Perhatikan alat pemenuhan kebutuhan berikut.

- (1) Pensil dengan bolpoint
- (2) Kompor dengan minyak tanah
- (3) Kopi dengan gula
- (4) Gula dengan Madu
- (5) Mentega dengan minyak goreng

Berdasarkan alata pemenuhan kebutuhan tersebut yang termasuk barang komplementer (pelengkap) ditunjukkan oleh nomor...

- a. 1 dan 2
- b. 1 dan 3
- c. 2 dan 3
- d. 3 dan 4
- e. 4 dan 5

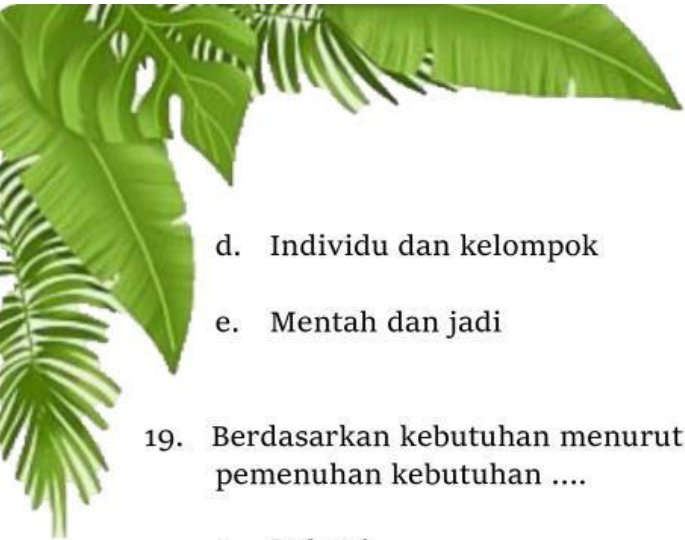
17. Suatu hari Dewi ingin membeli HP keluaran terbaru yang memiliki banyak fitur yang friendly. Pernyataan dibawah yang sesuai dengan keadaan Dewi adalah....

- a. Tingkat pendapatan seseorang akan mempengaruhi jenis kebutuhannya
- b. Semakin tinggi Pendidikan seseorang semakin bertambah kebutuhannya
- c. Teknologi yang semakin canggih mendorong untuk ingin memilikinya
- d. Peningkatan usia seseorang akan meningkatkan jenis-jenis kebutuhannya
- e. Perbedaan lingkungan social budaya memberi dampak terhadap kebutuhan seseorang

18. Berdasarkan hubungannya dengan benda lain , barang dibedakan menjadi barang

- a. Substitusi dan komplementer
- b. Ekonomi dan non ekonomi (bebas)
- c. Konsumsi dan produksi





d. Individu dan kelompok

e. Mentah dan jadi

19. Berdasarkan kebutuhan menurut waktunya, minum obat saat sakit merupakan pemenuhan kebutuhan

a. Rohani

b. Jasmani

c. Sekarang

d. Akan datang

e. primer

20. Seorang ibu ingin membeli perhiasan mahal yang ada di Toko. Kegiatan yang dilakukan ibu tersebut dilakukan dalam rangka memenuhi kebutuhan.....

a. Primer

b. Sekunder

c. Jasmani

d. Tersier

e. Rohani

