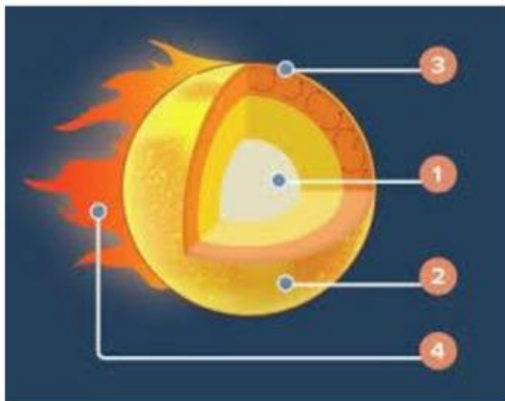


Lembar Kerja Peserta Didik

Tata Surya dalam Antariksa

Nama Kelompok

Perhatikan Gambar berikut :









Lengkapilah lapisan matahari sesuai dengan nomor yang tersedia

No	Lapisan Matahari	Pengertian	Suhu
1			
2			
3			
4			




Apa yang kalian ketahui tentang Tata Surya

Lengkapilah Tabel Tata Surya berikut :

NO	GAMBAR	PLANET	JULUKAN	YANG KALIAN KETAHUI
1				
2				
3				
4				
5				
6				
7				

8



9



Link Youtube Meteor yang jatuh

Berdasarkan pada video tersebut, Analisislah hal terjadi jika meteor jatuh ke permukaan bumi

Buatlah Kesimpulan dari Pembelajaran Tata Surya