



Examen Segundo Trimestre

Elije la respuesta correcta.

1.- ¿Por qué los seres humanos y los animales no podemos consumir agua de los océanos?

- a) Por su alto contenido de peces.
- b) Por su alto contenido de contaminantes.
- c) Por su alto contenido de azúcar.
- d) Por su alto contenido de sal.



2.- ¿Cuáles son los 5 grupos en que se clasifica el clima?

- a) Tropical, seco, muy seco y extra seco.
- b) Tropical, seco, templado, frío y polar.
- c) Tropical, frío, lluvioso, templado y seco.
- d) Tropical, nevado, templado, seco y polar.



3.- Es el agua que utilizamos para las actividades cotidianas y económicas como la agricultura, la ganadería y el procesamiento de alimentos.

- a) Agua salobre.
- b) Agua salada.
- c) Agua dulce.
- d) Agua fresca



4.- Son elementos del clima:

- a) cálidos, templados, tropicales, polares
- b) temperatura, nubosidad, humedad, viento
- c) altitud, latitud, relieve, cercanía al mar
- d) cálido, temperatura, altitud



5.- ¿Con qué porcentaje del agua de todo el planeta debemos cubrir las necesidades de toda la población mundial incluyendo las actividades agrícolas e industriales?

- a) Con el 97% del agua del planeta.
- b) Con el 50% del agua del planeta.
- c) Con el 3% del agua del planeta.
- d) Con menos del 1% del agua del planeta.



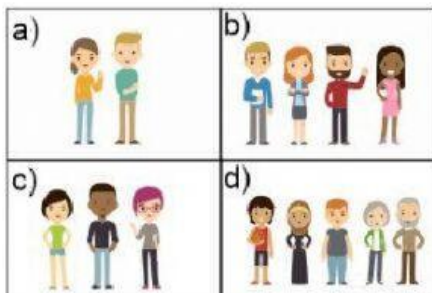
6.- ¿Qué es el estado del tiempo?

a) es la combinación de eventos meteorológicos como la temperatura o la humedad que ocurren a lo largo de un día en nuestra atmósfera

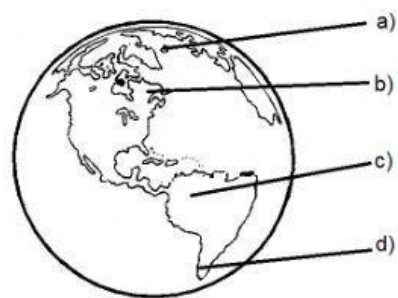
b) son las condiciones meteorológicas medias que caracterizan a un lugar determinado, que se han registrado durante 10 años en ese lugar.



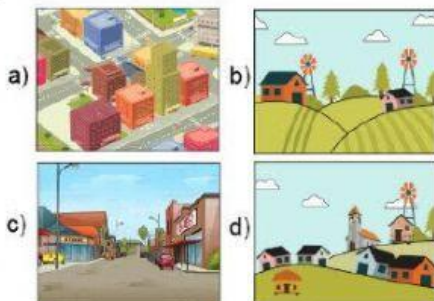
7.- Cada recuadro representa 1 m2. Elige la opción que representa una mayor densidad de población.



8.- Elige el lugar donde se encuentran las regiones selváticas y el bosque tropical:



9.- ¿Cuál de las siguientes imágenes representa una mayor dispersión de población?



10.- Para saber si un país se encuentra sobrepoblado es necesario conocer:

- a) La población absoluta.
- b) Las condiciones de vida.
- c) La densidad de población.
- d) La edad de los habitantes.





11.- ¿Cuál de los siguientes es uno de los países más poblados del mundo?

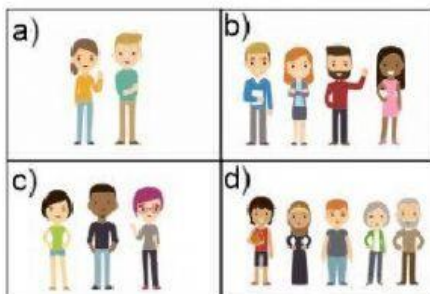
- a) Francia.
- b) Australia.
- c) China.
- d) Holanda.



13.- Son problemas de la concentración de población, excepto:

- a) Dificultades para proporcionar a todos sus habitantes los servicios que requieren.
- b) Aumenta la contaminación del aire.
- c) Exceso en el consumo de combustible.
- d) Gran disponibilidad de empleos.

15.- Cada recuadro representa 1 m2. Elige la opción que representa una mayor densidad de población.



12.- Lugares donde se concentra mayor población y se proporciona la mayoría de servicios, como hospitales, escuelas y empleos.

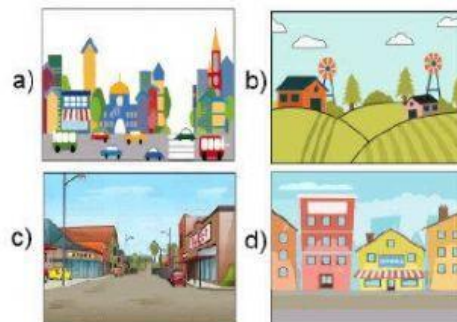
- a) Ciudades o urbes.
- b) Espacios rurales.
- c) Localidades privadas.
- d) Localidades públicas.



14.- Lugares donde se concentra menos población y se desarrollan actividades como la agricultura y la ganadería.

- a) Ciudades o urbes.
- b) Espacios rurales.
- c) Localidades privadas.
- d) Localidades públicas.

16.- ¿Cuál de las siguientes imágenes representa una zona rural?



17.- ¿Qué característica es considerada por todos los países para definir una ciudad?

- a) La extensión territorial.
- b) El número de habitantes.
- c) El idioma que habla.
- d) El nivel económico.

