



# LKPD



LEMBAR KERJA PESERTA DIDIK



## LUAS BELAH KETUPAT

KELAS VI  
SEKOLAH DASAR

Nama :

Kelas :

Kelompok :





# Petunjuk Penggunaan E-LKPD



**1**

Tuliskan nama dan kelas pada kolom yang tersedia

**2**

Perhatikan penjelasan yang disampaikan oleh guru

**3**

Kerjakan sesuai kolom yang disediakan dengan benar

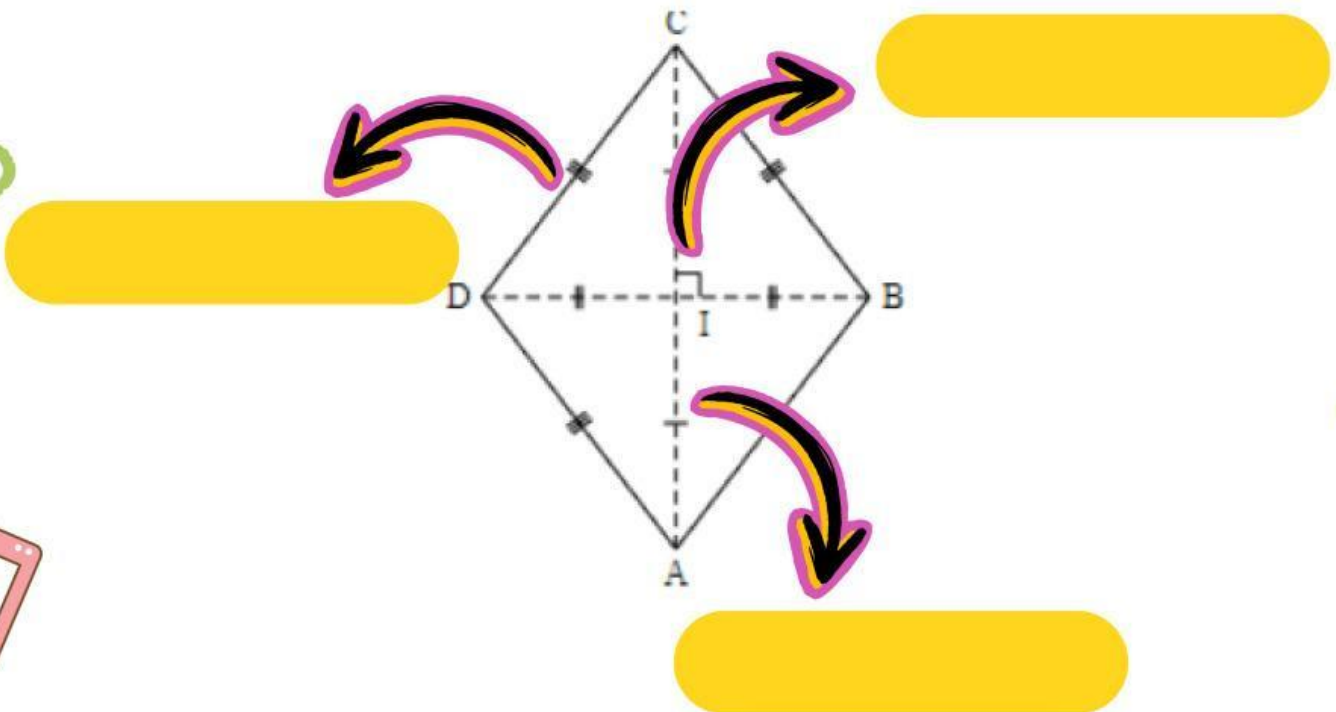
**4**

Baca dan pahami bahan ajar dan tugas yang ada



## Ayo Mencoba!

Kerjakan dengan cara mencocokkan dan pasangkanlah pilihan jawaban pada kolom yang sudah disediakan dengan benar



Sudut

Diagonal

Sisi



## Ayo Berlatih!




Petunjuk: Berikan jawaban "Benar" jika pernyataan sesuai dan "salah" apabila tidak setuju dengan pernyataan pada kolom yang tersedia.

1. Bangun datar belah ketupat mempunyai 6 sisi yang sama panjang .....


2. Sudut-sudut yang berhadapan sama besar dan dibagi dua sama besar oleh diagonalnya .....



# Ayo Berlatih!

- 
- 
- 
1. Dengarkan pertanyaan yang ada dalam suara dan jawablah



- 
2. Dengarkan pertanyaan yang ada dalam suara dan jawablah

