

NOMBRES Y APELLIDOS:

Unidades y Decenas

* Completa la siguiente casita con los números que encuentras en las zonas de seguridad y escribe las respuestas.

①

D	U
1	3
4	4

+

⑧

D	U
3	8
1	1

+

②

D	U
1	0
3	7

+

⑦

D	U
1	5
3	2

+

③

D	U
4	5
1	1

+

⑥

D	U
1	6
4	0

+

D	U

④

D	U
3	0
2	9

+

⑤

D	U
3	2
2	3

+

¿Qué lindo es sumar!

* Realiza las siguientes sumas:

D	U
2	5
1	1

+

D	U
2	9
2	0

+

D	U
1	3
2	4

+

D	U
3	4
1	4

+

D	U
3	1
1	8

+

D	U
2	3
2	0

+

D	U
4	0
	9

+

D	U
1	1
1	7

+

D	U
1	6
3	1

+

D	U
1	8
2	1


+

D	U
1	5
3	0

+

D	U
1	2
2	6

+



¿Qué lindo es restar!

* Realiza las siguientes sustracciones:

D	U
4	8
3	7

-

D	U
2	8
2	6

-

D	U
3	9
1	5

-

D	U
3	9
3	1

-

D	U
1	7
	5

-

D	U
2	6
1	6

-

D	U
4	4
3	2

-

D	U
4	7
3	6

-

D	U
4	9
3	5

-

D	U
3	5
1	4

-

D	U
4	7
4	6

-

D	U
4	6
2	3

-



Restando

* Realiza las siguientes sustracciones:



D	U
2	8
2	5

-

D	U
4	7
3	4

-

D	U
1	9
	9

-

D	U
4	8
2	7

-

D	U
4	9
3	6

-

D	U
3	2
1	1

-

D	U
3	7
2	5

-

D	U
4	4
2	2

-

D	U
3	3
1	2

-

D	U
4	0
2	0

-

D	U
2	2
1	1


-

D	U
2	4
1	0

-

1. Responde:

¿Cómo debemos dejar nuestra mesa de trabajo después de terminar las tareas?





Problemitas



1. En la casa de mi tía habían 5 gatos y 3 conejos. ¿Cuántos animales tiene mi tía?

U

+

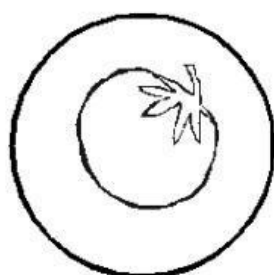
Mi tía tiene _____ animales.

2. Pepe tiene en su caja de juguetes 12 carritos y 11 ositos de peluche. ¿Cuántos juguetes tiene Pepe en total?

D	U

Pepe tiene _____ juguetes.

3. En el mercado se venden los siguientes productos:



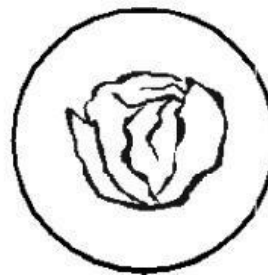
S/.12



S/.10



S/.7



S/.5

* Mi tía gastó en:



S/.



S/.

En total gastó

S/.

D	U

+

* Mi mamá gastó en:



S/.



S/.

En total gastó

S/.

D	U

+



¡Seguimos resolviendo problemitas!


1. En una tienda de animales habían 15 tortugas, llegó un niño y compró 4. ¿Cuántas quedaron en la tienda?



D	U

—

2. En una laguna nadaban 24 patitos, después de un rato se fueron 13. ¿Cuántos patitos quedaron en la laguna?




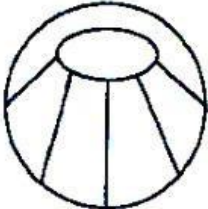
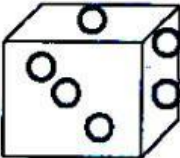





D	U



—

¿Qué divertido es pensar!

* Observa el precio de los juguetes que hay en la tienda y ayuda a cada niño a comprar. Luego saca la cuenta a cada uno de ellos.

	S/.36		S/.33		S/.33
	S/.22		S/.15		S/.45

	<table border="1"> <thead> <tr> <th>D</th> <th>U</th> </tr> </thead> <tbody> <tr><td> </td><td> </td></tr> <tr><td> </td><td> </td></tr> <tr><td> </td><td> </td></tr> <tr><td> </td><td> </td></tr> </tbody> </table>	D	U									+		<table border="1"> <thead> <tr> <th>D</th> <th>U</th> </tr> </thead> <tbody> <tr><td> </td><td> </td></tr> <tr><td> </td><td> </td></tr> <tr><td> </td><td> </td></tr> <tr><td> </td><td> </td></tr> </tbody> </table>	D	U									+
D	U																								
D	U																								
¿Cuánto gastó? _____			¿Cuánto gastó? _____																						

	<table border="1"> <thead> <tr> <th>D</th> <th>U</th> </tr> </thead> <tbody> <tr><td> </td><td> </td></tr> <tr><td> </td><td> </td></tr> <tr><td> </td><td> </td></tr> <tr><td> </td><td> </td></tr> </tbody> </table>	D	U									+		<table border="1"> <thead> <tr> <th>D</th> <th>U</th> </tr> </thead> <tbody> <tr><td> </td><td> </td></tr> <tr><td> </td><td> </td></tr> <tr><td> </td><td> </td></tr> <tr><td> </td><td> </td></tr> </tbody> </table>	D	U									+
D	U																								
D	U																								
¿Cuánto gastó? _____			¿Cuánto gastó? _____																						