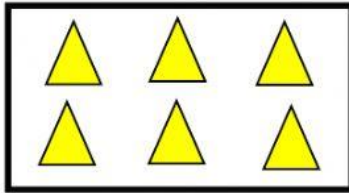



Activando mis conocimientos




Selecciona el número que corresponde a la cantidad de objetos



2 7 6




10 3 4



11 6 9



0 10 1



20 17 15



9 10 11

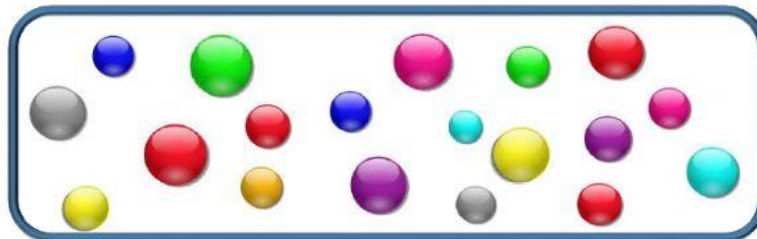


Suma y coloca dentro de las botellas el resultado de la operación.
Luego escribe el número sobre la línea.

$$0 + 5 = \underline{\quad}$$



$$1 + 9 = \underline{\quad}$$



¿Cuántas canicas quedaron en la canasta? Escribe el número en la siguiente línea.
