


Lembar Kerja Peserta Didik

LKPD

URUTAN TAKSON MAKHLUK HIDUP

Mayang Sari, S.Pd.



Carolus Linnaeus

BAPAK TAKSONOMI

NAMA ANGGOTA KELOMPOK:


1.
2.
3.
4.
5.
6.

KELAS :



1

Isilah Tingkat Takson Hewan dari Lingkup Terbesar Hingga Lingkup Terkecil pada Piramida Berikut Ini!



Famili

Kingdom

Filum

Genus


Kelas

Spesies

Ordo

Isilah Tingkat Takson
Tumbuhan dari Lingkup Terbesar
Hingga Lingkup Terkecil
pada Piramida Berikut Ini!

2



Famili

Kingdom

Divisi

Genus

Kelas

Spesies

Ordo

3

Tarikla Garis dan Pasangkan Istilah Takson dengan pernyataan yang tepat !

- | | | | | |
|--------------|---|---|---|---|
| Filum/Divisi | ● | ● | Tingkatan tertinggi pada makhluk hidup | 🔍 |
| Genus | ● | ● | Mengelompokkan organisme yang memiliki ciri-ciri serupa | 🔍 |
| Spesies | ● | ● | Tingkatan dibawah divisi | 🔍 |
| Kingdom | ● | ● | Tingkatan takson berada dibawah kelas | 🔍 |
| Kelas | ● | ● | Penamaannya pada tumbuhan diakhiri dengan kata aceae | 🔍 |
| Ordo | ● | ● | Kata pertama yang dituliskan pada penamaan ilmiah sistem binomial nomenklatur | 🔍 |
| Famili | ● | ● | Tingkatan takson paling rendah | 🔍 |