



LEMBAR KERJA PESERTA DIDIK

Analisis Diagram Pencar

A

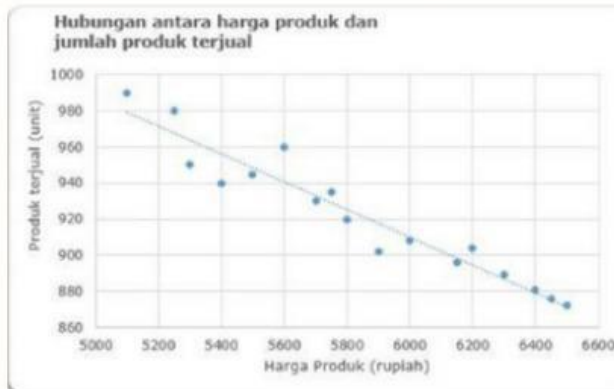
Nama Anggota Kelompok:

- 1.....
- 2.....
- 3.....
- 4.....
- 5.....

Diskusikan dalam kelompokmu!

Perhatikan diagram pencar berikut, kemudian analisislah tren datanya, berikan keterangan jenis korelasinya berdasarkan arah tren data, bentuk tren datanya, dan interpretasi datanya.

Berikut adalah diagram pencar hubungan antara harga produk dan jumlah produk yang terjual



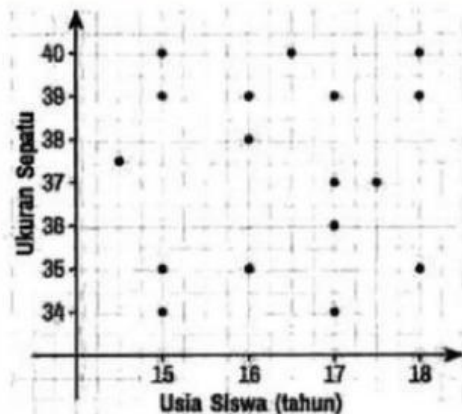
Berdasarkan diagram tersebut,

Jenis korelasinya adalah,

Bentuk tren datanya adalah,

Interpretasi dari data tersebut adalah,

Berikut adalah diagram pencar hubungan antara usia dengan ukuran sepatu.



Berdasarkan diagram tersebut,

Jenis korelasinya adalah,

Bentuk tren datanya adalah,

Interpretasi dari data tersebut adalah,



LEMBAR KERJA PESERTA DIDIK

Analisis Diagram Pencar

B

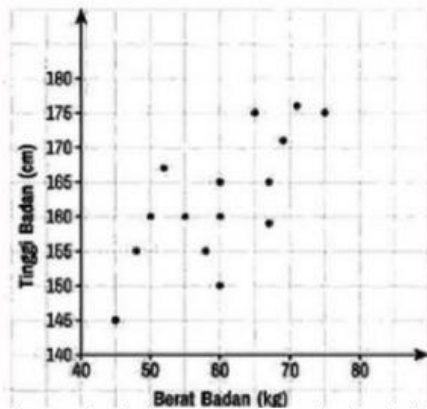
Nama Anggota Kelompok:

- 1.....
- 2.....
- 3.....
- 4.....
- 5.....

Diskusikan dalam kelompokmu!

Perhatikan diagram pencar berikut, kemudian analisislah tren datanya, berikan keterangan jenis korelasinya berdasarkan arah tren data, bentuk tren datanya, dan interpretasi datanya.

Berikut adalah diagram pencar hubungan antara berat badan dan tinggi badan.



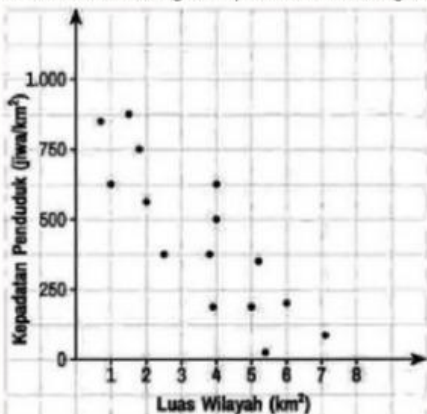
Berdasarkan diagram tersebut,

Jenis korelasinya adalah,

Bentuk tren datanya adalah,

Interpretasi dari data tersebut adalah,

Berikut adalah diagram pencar hubungan antara luas wilayah dengan kepadatan penduduk.



Berdasarkan diagram tersebut,

Jenis korelasinya adalah,

Bentuk tren datanya adalah,

Interpretasi dari data tersebut adalah,



LEMBAR KERJA PESERTA DIDIK

Analisis Diagram Pencar

C

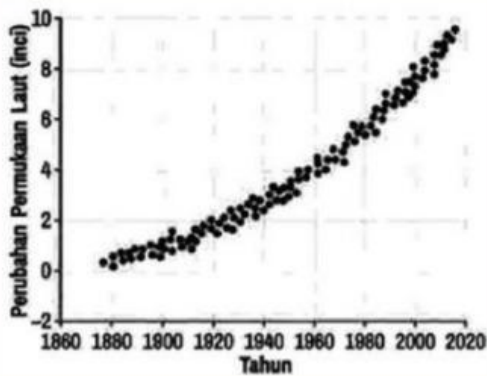
Nama Anggota Kelompok:

- 1.....
- 2.....
- 3.....
- 4.....
- 5.....

Diskusikan dalam kelompokmu!

Perhatikan diagram pencar berikut, kemudian analisislah tren datanya, berikan keterangan jenis korelasinya berdasarkan arah tren data, bentuk tren datanya, dan interpretasi datanya.

Berikut adalah diagram pencar dampak pemanasan global terhadap permukaan laut.



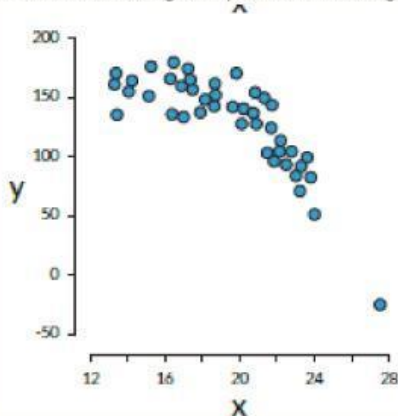
Berdasarkan diagram tersebut,

Jenis korelasinya adalah,

Bentuk tren datanya adalah,

Interpretasi dari data tersebut adalah,

Berikut adalah diagram pencar hubungan jumlah pupuk yang digunakan dan hasil panen.



Berdasarkan diagram tersebut,

Jenis korelasinya adalah,

Bentuk tren datanya adalah,

Interpretasi dari data tersebut adalah,