

ASESMEN SUMATIF LINGKUP MATERI BAB 1 T.P 2024/2025

Mata Pelajaran : Matematika	Hari, tanggal : Senin, 12 Agustus 2024
Nama :	Kelas : V (Lima)

Kerjakanlah soal berikut dengan teliti!

- Nisa tinggal di Kota Banjarmasin. Dia akan berangkat ke Kota Barabai untuk bersilaturahmi ke rumah keluarganya. Jarak antara Kota Banjarmasin dengan Kota Barabai adalah seratus enam puluh empat ribu dua ratus meter. Jarak yang harus ditempuh Nisa jika dinyatakan dengan angka, maka menjadi m
- Berikut ini adalah Jumlah Hasil Panen Jagung Pak Ilham selama 4 Bulan Terakhir

No	Bulan	Jumlah
1	Januari	72.543 Ton
2	Februari	78.421 Ton
3	Maret	35.700 Ton
4	April	25.320 Ton





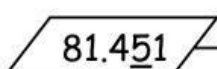

- Berdasarkan tabel Hasil Panen Jagung di atas, jumlah hasil panen pada bulan Februari dibaca ...

Jawab:

- Berapakah selisih jumlah hasil panen pada bulan Maret dan April?

Jawab:

- Tulis nilai tempat dari angka yang bergaris bawah!

		Ratusan
	
	

- 5.


$$\begin{aligned} \dots\dots\dots &= \dots\dots\dots + \dots\dots\dots + \dots\dots\dots + \dots\dots\dots \\ &+ \dots\dots\dots \end{aligned}$$

-
- The diagram illustrates four types of eggs, labeled a, b, c, and d, each shown in a row of 10 eggs. The prices for each type are as follows:
- | Type | Color | Price (Rp) |
|------|--------|------------|
| a | Green | 56.560,00 |
| b | Pink | 65.750,00 |
| c | Yellow | 57.000,00 |
| d | Blue | 75.360,00 |

Pernyataan	Benar	Salah
1) Harga papan dakon yang paling murah adalah jenis a.		
2) Urutan harga papan dakon dari yang paling murah yaitu c, a, b, d.		
3) Harga papan dakon yang paling mahal adalah jenis d.		

7. Berikut ini beberapa jenis perlengkapan sekolah yang dijual di Toko Alat Tulis Cempaka.



Rp25.200,00



Rp23.000,00



Rp22.000,00



Rp19.800,00



Rp5.000,00

Pasangkan pernyataan di Kolom A dan di Kolom B secara tepat, dengan cara memberi garis!

Kolom A

Atha membeli 1 pak pensil warna, sedangkan Fadhil membeli 1 pak pulpen dan 1 tipe-x. Berapakah selisih uang yang harus mereka bayarkan masing-masing?

Salsa mempunyai uang Rp50.000,00 dan ia membeli 1 buah buku dan 2 buah tipe-x. Berapakah uang Salsa yang tersisa?

Kolom B

Rp14.800,00

Rp6.000,00

Rp50.000,00

8. Pak Yunus mempunyai 6 keranjang jeruk. Setiap keranjang jeruk berisi 32 buah jeruk. Jika jeruk itu diberikan sama banyak kepada 8 orang tetangganya, maka berapa buah jeruk yang diterima setiap tetangga pak Yunus? (Tuliskan caranya!)

Jawab:

9. Perhatikan gambar berikut!



Ibu dan Nisa sedang berbelanja di Hypermart. Ibu membeli 1 botol minyak goreng tawon dan 1 bungkus tepung bogasari. Berapakah total harga barang yang ibu beli? (Tuliskan caranya!)

Jawab: