

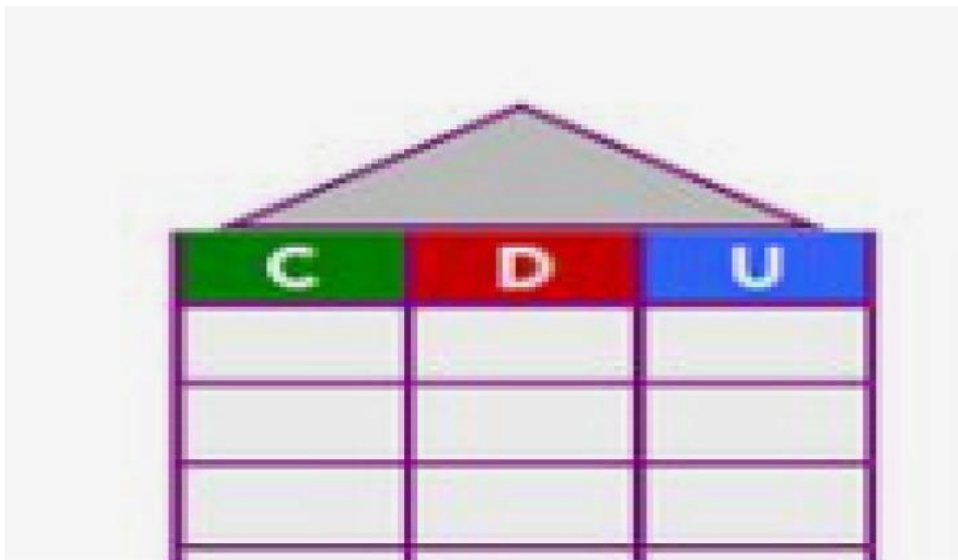
TRABAJO PRÁCTICO:

¡HOLA CHICOS! 🎉 HOY VAMOS A PONER A PRUEBA TODO LO QUE HEMOS APRENDIDO. NO SE OLVIDEN DE ESCRIBIR LAS RESPUESTAS.

¡DESAFIÉNSE A USTEDES MISMOS Y DEMUESTREN CUÁNTO HAN APRENDIDO! 💪 ¡USTEDES PUEDEN HACERLO! ☀️

RESUELVE:

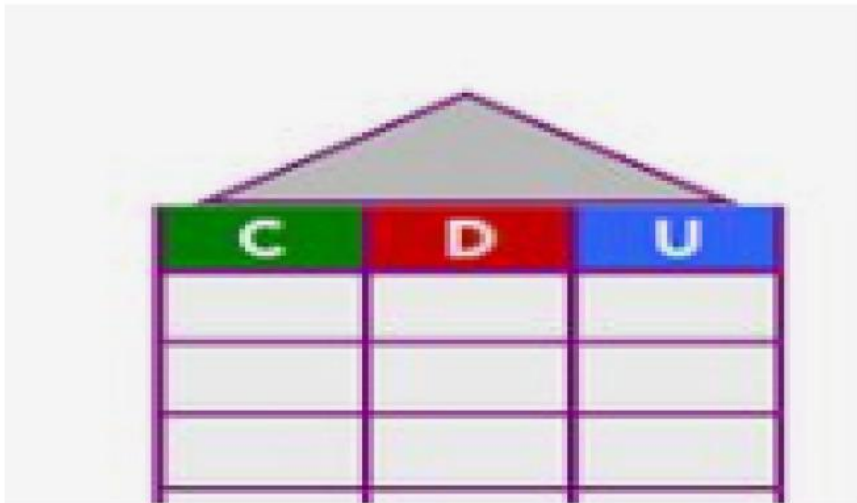
- 1) LUCÍA CONSUME 450 EN EL DESAYUNO Y 143 CALORÍAS EN EL ALMUERZO. ¿CUÁNTAS CALORÍAS LLEVA CONSUMIDAS HASTA EL ALMUERZO?



C	D	U

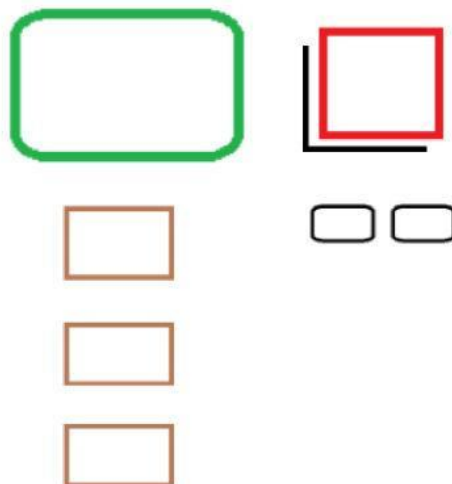
RESPUESTA: _____

2) PEDRO DEBE CONSUMIR 397 CALORÍAS AL DÍA Y YA HA CONSUMIDO 196. ¿CUÁNTAS CALORÍAS LE FALTAN POR CONSUMIR?





RESPUESTA: _____

3) LUCÍA DECIDE DISTRIBUIR SUS 153 CALORÍAS DIARIAS EN 3 COMIDAS IGUALES. ¿CUÁNTAS CALORÍAS DEBE CONSUMIR EN CADA COMIDA?



RESPUESTA: _____

4) PEDRO CONSUME 35 CALORÍAS CON CADA FRUTA. ¿CUÁNTAS CALORÍAS CONSUME SI COMO 2 FRUTAS?

 FRUTA	FRUTA 

$$35 \quad \underline{\hspace{1cm}} \quad 2 = \underline{\hspace{1cm}}$$

RESPUESTA: _____

RÚBRICA DE EVALUACIÓN

CRITERIOS	★ ★ ★	★ ★	★
COMPRENSIÓN DEL PROBLEMA			
PROCEDIMIENTO			
EXACTITUD DE LA RESPUESTA			