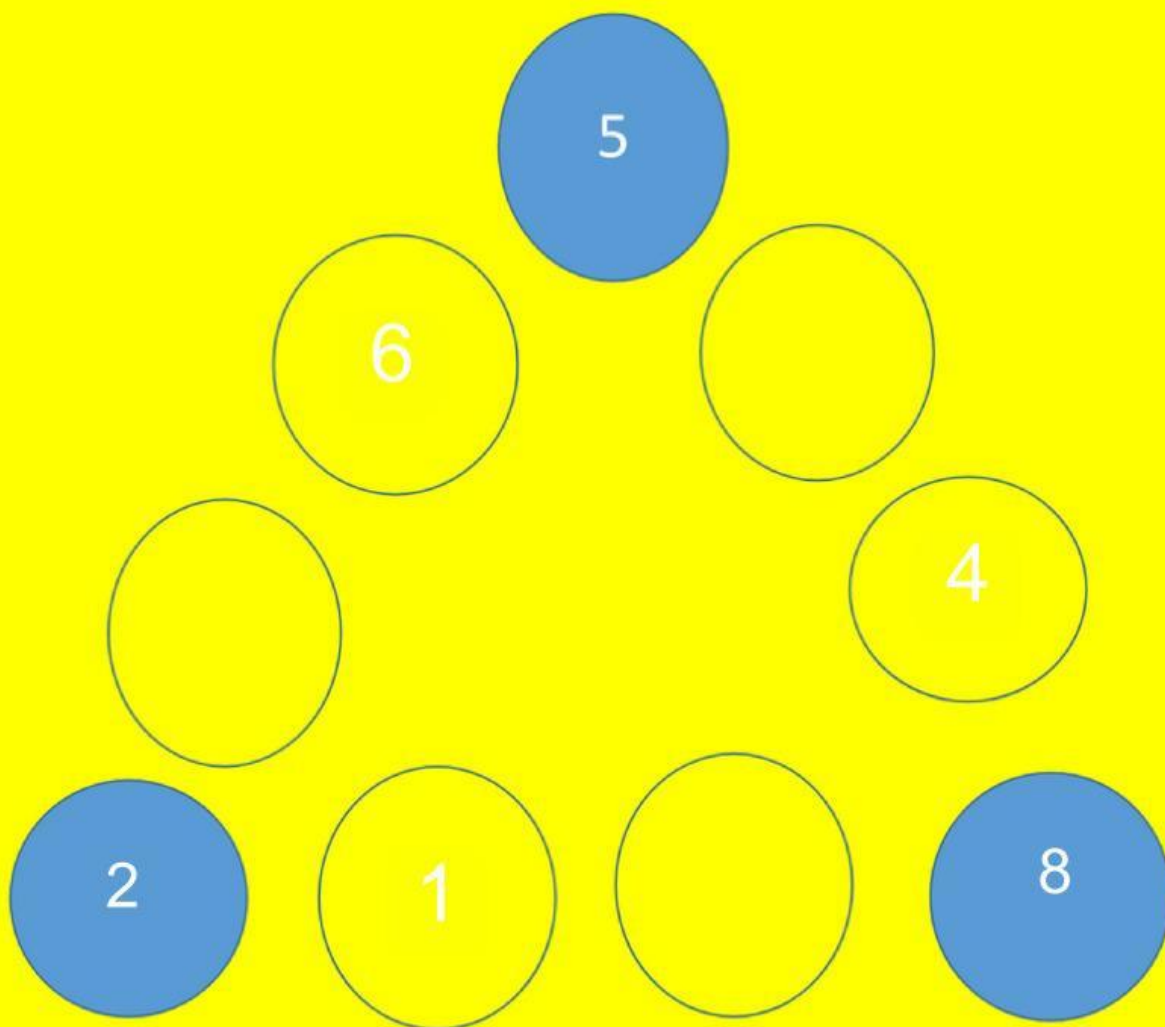


Ignacio renzo Cardozo bastian ybañez

DESAFIOS MATEMÁTICOS

Coloca los círculos los números del 1 al 9 sin repetirlos de manera que sumamos los números de cada uno de los lados del triangulo se obtenga 20



Desafío

Matemático

Usamos los números del 1 al 9, ubica un número diferente en cada cuadro de modo que la suma sea 900.

9 0 0

6	1	3	9	2	8
	1	6	2		

Agüero- Torrez/5B

Para hacer este desafío necesitamos
ver los resultados y los números
sumados.



$$6+4=210$$



Gracias por jugarlo

$$9+2=711$$

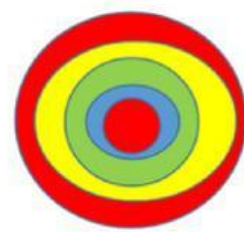
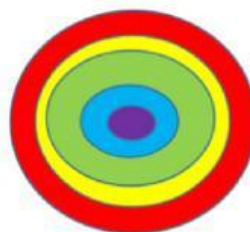

$$8+5=313$$

$$5+2=?$$



Suarez- rojas

Desafío matemático



Stefano travaglini y noah staibano