
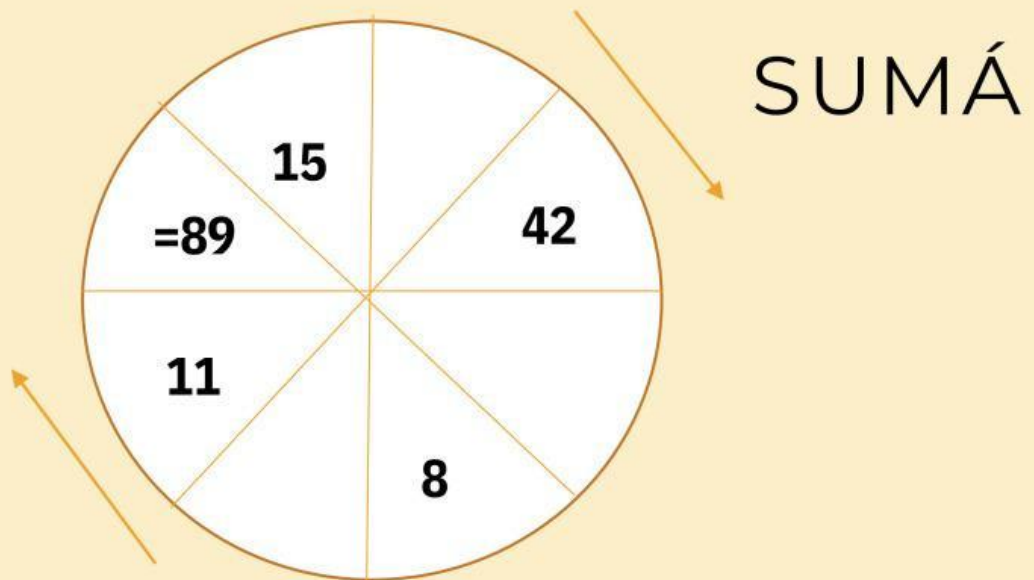


Desafío matemático

ENIGMA 3:

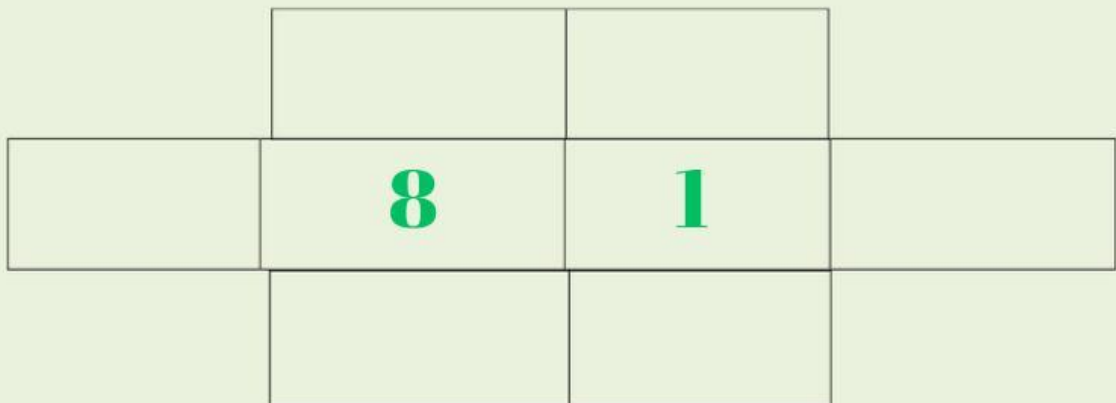
Ubica las piezas donde correspondan para que puedas obtener los resultados **indicados**. Hay intrusas que no debes usar



PAJON- DULANTO /5ºB

Desafío matemático

Ubiquen los números del 1 al 8 en los casilleros de modo que no se toque nunca dos conceptivos ni de forma diagonal, horizontal o vertical.



.

1 2 3 4 5 6 7 8

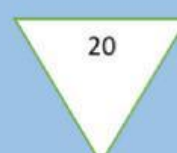
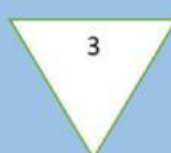
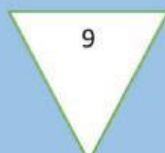
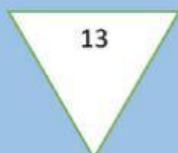
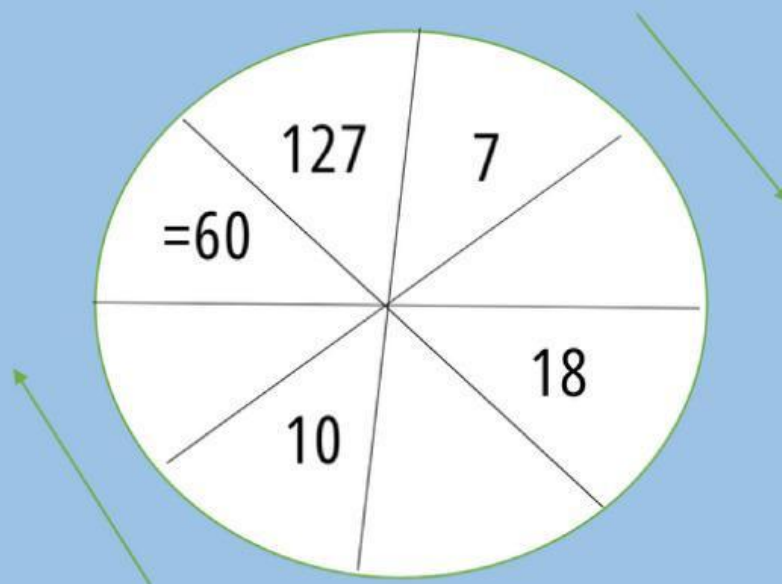
Cerezo y Arndt 5-B

Desafío

Matemático

Enigma 1 : Ubica las piezas donde correspondan para que puedas obtener los resultados indicados. Hay intrusas que no debe usar.

RESTA

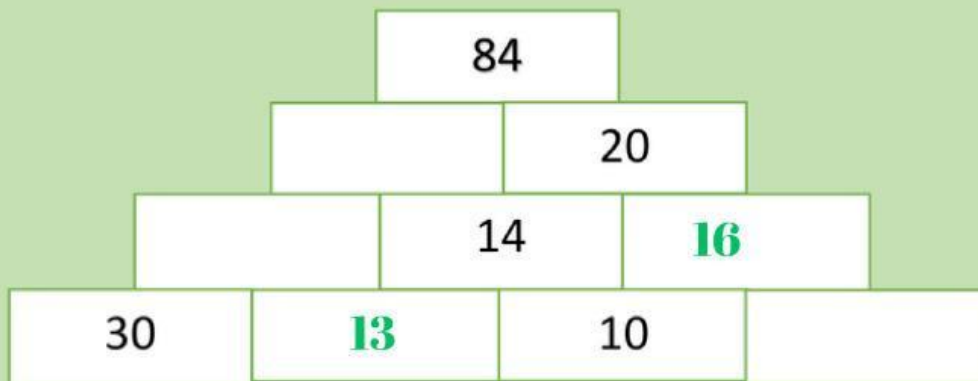


Acuña y castellanos

Desafíos matemáticos

Enigma 6

Ubica las piezas donde correspondan para que logres obtener en cada fila el resultado que está en la punta de la pirámide.



- A

13

 B

54

 C

16

 D

64

 E

3 1

JOSUE CANAVIRI Y JEREMIAS MAYTA