

Lembar Kerja Peserta Didik

LKPD

IPA KELAS 9/GANJIL

Pertumbuhan dan Perkembangan

Nama :

.....

Absen :

.....



Guru Mapel : Riza Mega Umami, S.Si.



Lembar Kerja Peserta Didik

A. Contoh pertumbuhan dan berkembang Pada Manusia.

Bela memotong kuku seminggu sekali karena kukunya panjang

Adeku sudah bisa berjalan sejak umur 10 bulan

Suara Rudi besar sejak dia masuk SMP

Dian sudah menstruasi sejak kelas 6 SD

Sepatuku saat SD sudah tidak muat jika dipakai lagi

Adik dita masih Tk namun sudah bisa membaca dengan lancar

B. Tahap perkembangan bayi



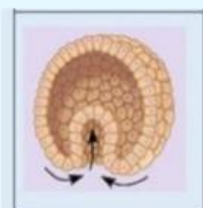
Awal perkembangan sel terdiri dari 12-32 sel



Sel yang mengalami pelebaran dan mempunyai lapisan dinding embrio




Hasil penyatuan sel sperma dengan sel telur



Kelompok sel yang berongga dan melingkar yang diproduksi saat embrio berkembang

Lembar Kerja Peserta Didik

C. Hewan Vertebrata dan Avertebrata



Tarik kata di bawah ini pada gambar hewan dengan tepat!

Porifera

Pisces

Mollusca

Reptil

Mamalia

Echinodermata

Aves

Platyhelminthes

Annelida

Amfibi

Coelenterata

Arthropoda

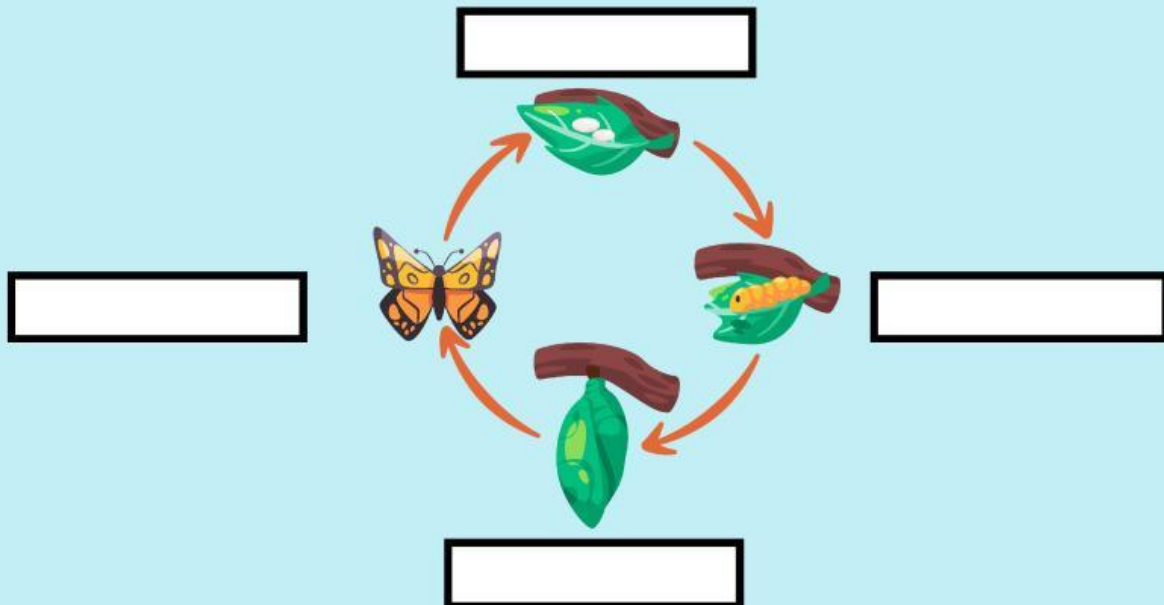
Lembar Kerja Peserta Didik

D. Cara Perkembangbiakan pada hewan

Nama Hewan	Cara Perkembangbiakan
Rusa	
Kuda laut	
Katak	
Gajah	
Salamander	
Bebek	
Ikan pari	

E. Metamorfosis

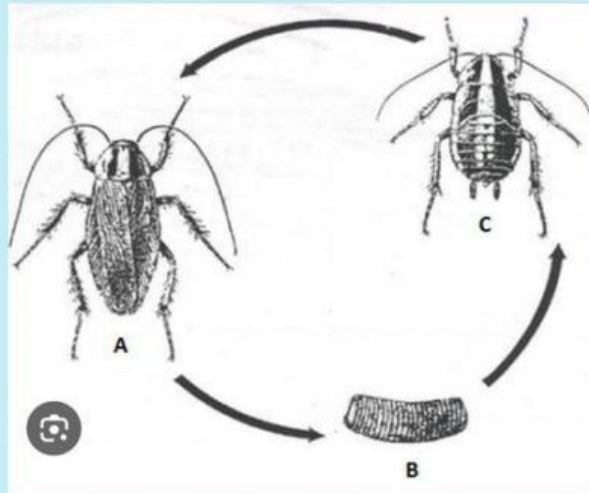
Tuliskan tahap metamorfosis pada lalat dan



Hewan di atas mengalami metamorfosis?

Tuliskan tahap metamorfoais pada lalat dan

A.



C

B

Hewan di atas mengalami metamorfosis?

Refleksi

Bagaimana perasaan kamu setelah mempelajari materi ini?

