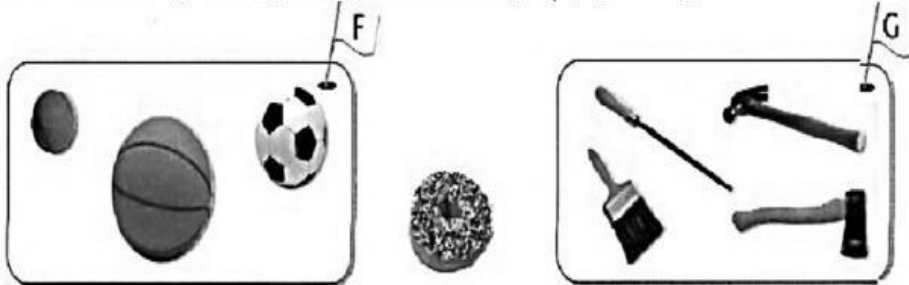


Matemática
Examen del primer trimestre

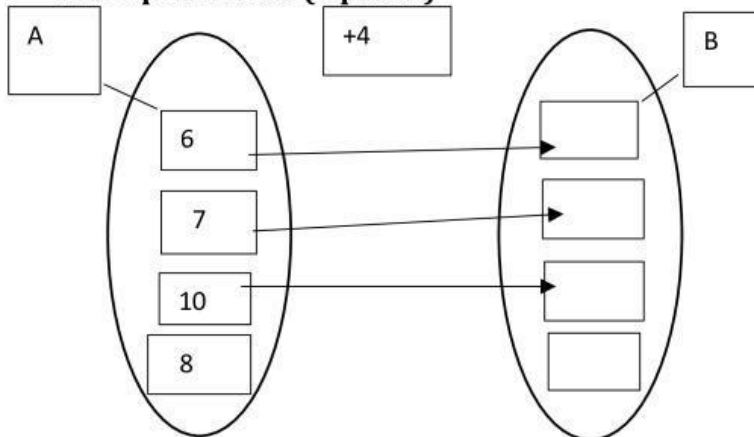
Fecha: _____

Nombre: _____

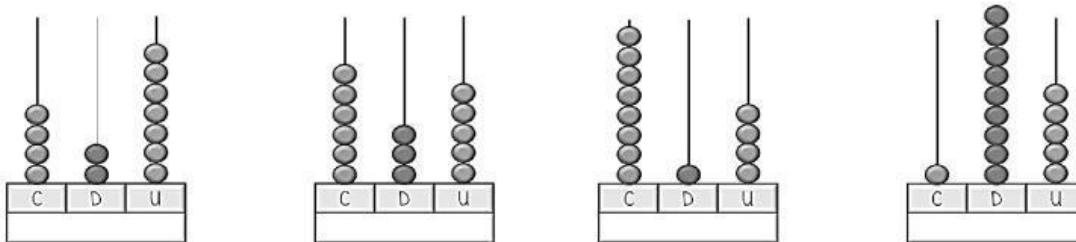
1. Observa los conjuntos y luego escribe € y ₤ (1 punto)



2. Completa los elementos que faltan en la relación de correspondencia. (1 punto)

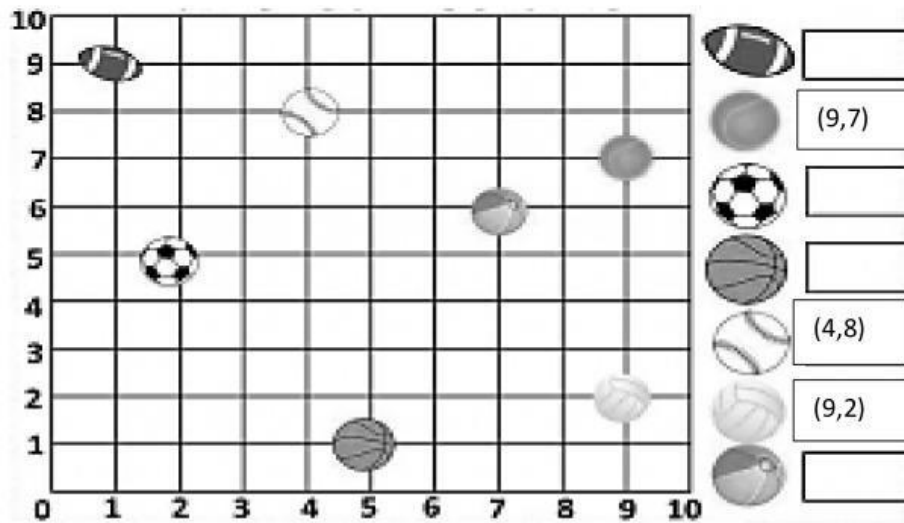


3. Escribe las cifras que representa cada ábaco (1 punto)



--	--	--	--

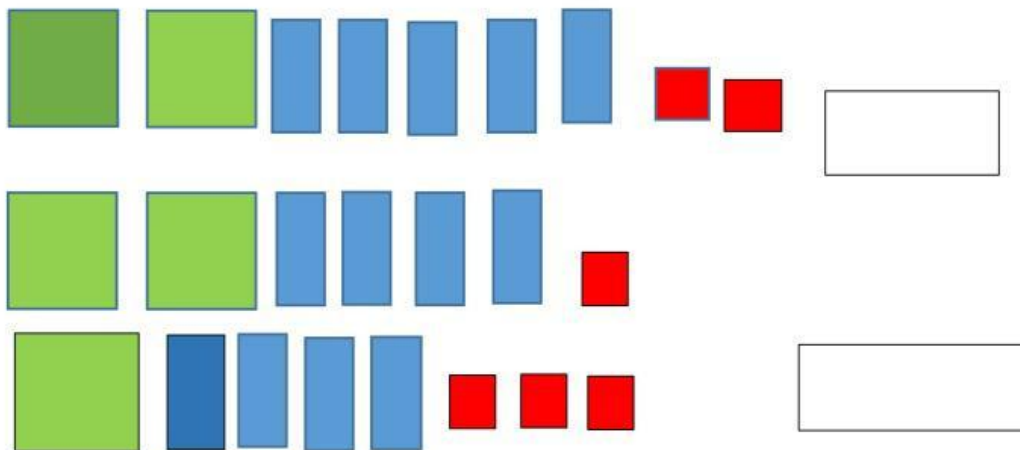
4. Escribe las coordenadas de cada figura en la cuadrícula. (1 punto)



5. Completar en números o letras el cuadro de las centenas según corresponda. (1 punto)

Cantidad en números	Cantidad en letras
126	<input type="text"/>
<input type="text"/>	Quinientos sesenta y dos
964	<input type="text"/>
<input type="text"/>	Trescientos veinticinco

6. Escribo la cantidad representada en base 10. (1 punto)



7. Adiciones con reagrupación. (1 punto)

	C	D	U			C	D	U	
	4	8	5		2	1	4		
+	3	2	7		+	6	4	6	

8. Sustracciones con desagrupación. (1 punto)

	8	5	6
-	3	9	8

	4	5	6
-	2	3	7

9. Escribir el signo < > o = según corresponda.(1 punto)

465		146
229		280
412		412
387		378

10. Realiza la siguiente descomposición de cantidades. (1 punto)

389	C	D	U		+		+	

208	C	D	U		+		+	