



ESCUELA PARTICULAR MIXTA
"REPÚBLICA DE TAIWÁN"
2020-2021
EXAMEN FINAL DE LÓGICO MATEMÁTICO



Inicial 2

1.-Completa los números en la serie numérica del 1 al 29

1			4	
	7			
		13		
16			19	
	22			25
				30






ESCUELA PARTICULAR MIXTA
"REPÚBLICA DE TAIWÁN"
2020-2021




2.- Ubica el mayor que, menor que o igual que donde corresponda

10		7
25		29
18		18



3.- Completa la serie de los patrones





ESCUELA PARTICULAR MIXTA
"REPÚBLICA DE TAIWÁN"
2020-2021



4.- Unir los colores primarios y secundarios con sus imágenes.

