



# EVALUACIÓN DE PROCESO MATEMÁTICA

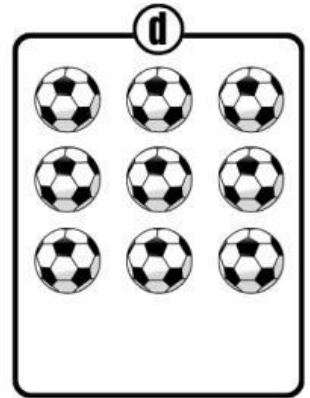
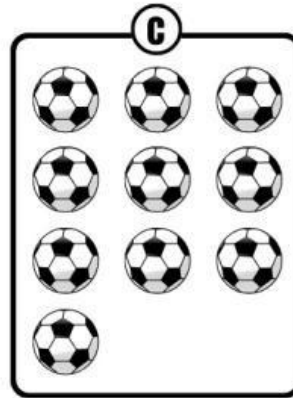




Nombres y Apellidos: \_\_\_\_\_

## Indicaciones

1. Lee cada pregunta con mucha atención.
2. Luego, marca con una (X) la respuesta correcta.
3. Solo debes marcar una respuesta por cada pregunta.

- 1** Observa con atención y marca con una X donde corresponde  
¿Dónde hay una decena de pelotas?



- 2** María tiene 5 muñecas y Luisa 8 peluches ¿Cuántos juguetes tienen en total?


**a** 3 juguetes

**b** 11 juguetes

**c** 13 juguetes

**d** 8 juguetes

- 3** Marca la alternativa correcta y escribe el número que continúa en la serie.



**a** 4

**b** 6

**c** 8

**d** 11