

## CLASE VIRTUAL 26/7

### CIENCIAS NATURALES

REPASAMOS LO ABORDADO EN EL PRIMER CUATRIMESTRE

#### ACTIVIDADES

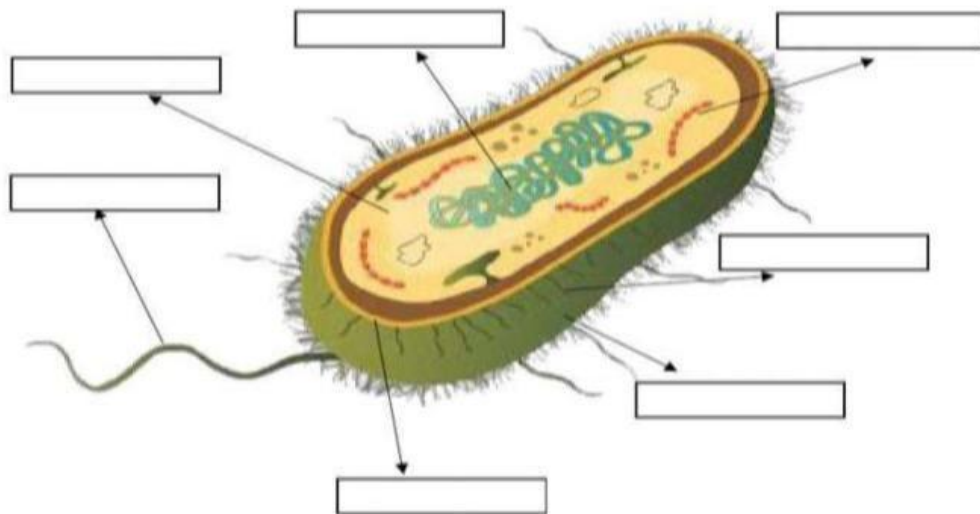
1) COMPLETA EL TEXTO CON LA PALABRA QUE CORRESPONDA DE LA SIGUIENTE LISTA:

ORGANELAS – VEGETAL- CÉLULAS- NO TIENE NÚCLEO – UNICELULAR – ANIMAL- PLURICELULAR – PROCARIOTA – EUCARIOTA

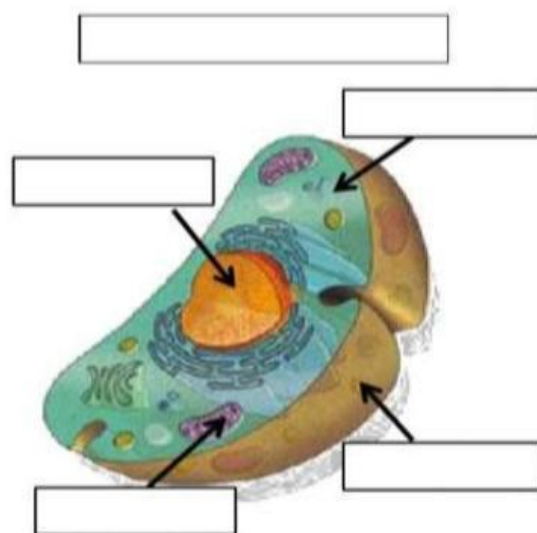

Los seres vivos, están formados por ..... Pueden estar formados por una sola y ser ....., o también formados por muchas y ser ..... existen dos tipos : ..... y ..... La gran diferencia es que la Procariota, ..... Y la eucariota sí.

La célula eucariota es más compleja y existen dos grupos: ..... y ..... internamente de ellas encontramos ..... que cumplen diferentes funciones.

2) COMPLETA EL ESQUEMA DE LA CÉLULA PROCARIOTA ( menciona en cada espacio la organela que corresponda)



3) IDENTIFICA QUE CÉLULA ES CADA DIBUJO Y UBICA LAS PALABRAS DONDE CORRESPONDA



Citoplasma	Cloroplasto	Núcleo	Orgánulos	Núcleo
Membrana	Pared	Membrana	Citoplasma	Orgánulos

#### 4) RELACIONA CADA ESPACIO CON EL NUMERO QUE CORRESPONDA

1 **Célula**



Conjunto de células especializadas que tienen una forma similar y una actividad determinada.

2 **Sistema**



Conjunto de órganos que trabajan de forma integrada y cumplen una función específica en el organismo.

3 **Tejido**



Nivel de mayor complejidad. Constituido por sistemas, que realizan sus funciones en forma coordinada.

4 **Organismo**



Estructura formada por diferentes tipos de tejidos, que coordinan sus funciones para realizar una tarea específica.

5 **Órgano**



Unidad básica de todos los organismos.